



İSTİKLÂL ŞAİRİ

Bağımsızlığımızı en iyi anlatan şiir, İstiklâl Marşımızdır. Zaten bağımsızlığımızı en iyi anlatan şiir olduğu için, 12 Mart 1921 günü TBMM tarafından İstiklâl Marşı olarak kabul edilmiştir. Bu eşsiz şiirin şairi de, eşsiz bir vatanseverdir.

Bu kişi, istiklâl şairimiz Mehmet Akif Ersoy'dur. 20 Aralık 1873'te İstanbul'da doğan Ersoy'un, babası Mehmet Tahir Efendi'dir. Arnavutluk Osmanlı Devleti'ne bağlıyken, Arnavutluk'tan İstanbul'a gelmiştir. Annesinin adı Emine Cemile Hanım, kız kardeşinin adı ise Nuriye'dir. Mehmet Akif Ersoy, İstanbul Fatih'te doğmuştur. Emir Buhari Mahalle Mektebi, Fatih Merkez Rüştüyesi ve Mülkiyede okumuştur. Babası vefat edince zor bir dönem geçirmiştir. Mülkiyeyi yarım bırakmak zorunda kalmıştır. Bu dönemde ilk şiirlerini yazmaya başlamıştır. Daha sonra eğitimini alarak baytar (veteriner) olmuştur. Mesleğini yapmak üzere İstanbul'dan ayrılmıştır. Rumeli'de, Arabistan'da ve Anadolu'da görev yapmıştır. Yaşadığı dönem, Osmanlı Devleti'nin son zamanlarına denk gelen Mehmet Akif Ersoy, ülkesinin yaşadığı tüm olumsuzluklara şahit olmuştur. Kurtuluş Savaşı ve işgal yıllarında, milletiyle birlikte mücadele etmiştir.



Kurtuluş Savaşı sırasında TBMM, halkın ve ordunun moralini yükseltmek için şiir yarışması düzenlemişti. Bu şiirlerden en güzel olanı seçilecek ve ileride "İstiklâl Marşı" olarak kabul edilecekti. Yarışmaya katılan tüm şiirleri inceleyen Milli Eğitim Bakanlığı, uygun bir şiir bulamadı. Bunun üzerine Mehmet Akif Ersoy'a, yarışmaya katılması için teklif götürüldü. Mehmet Akif, yarışmaya katılmayı tek bir şartla kabul etmişti. Bu şart, yarışmanın ödülü olan parayı almamaktı. Mehmet Akif Ersoy, verilen ücreti geri çevirmişti. Bu şiiri vatani için yazacaktı. Çünkü kendisi çok büyük bir vatan aşığıydı. İşte o günlerde Mehmet Akif Ersoy, hâlâ gururla okuduğumuz İstiklâl Marşımızın on kıtalık şiirini yazdı. Meclis tarafından çok beğenilen şiir, 12 Mart 1921'de İstiklâl Marşı olarak kabul edildi. İstiklâl Marşımız daha sonra Osman Zeki Üngör tarafından bestelenerek bugün söylediğimiz halini aldı.

"Safahat" gibi birçok önemli eseri olan Mehmet Akif Ersoy, 27 Aralık 1936'da İstanbul'da vefat etti. İstiklâl yani bağımsızlık şairi denilince ilk akla gelen kişi olan Mehmet Akif Ersoy'u, saygıyla ve rahmetle anıyoruz.

❖ Aşağıdaki soruları metne göre cevaplayınız. Doğru cevapları boşluklara yazınız.

1-Mehmet Akif, nerede ve hangi yılda doğmuştur?

.....

2-Mehmet Akif, İstanbul'dan neden ayrılmıştır?

.....

3- TBMM hangi yarışmayı düzenlemiştir?

.....

4-Ersoy'un, yarışmaya katılma şartı neymiş?

.....

5-İstiklal Marşı ne zaman kabul edilmiştir?

.....

6- Ersoy, nerede ve ne zaman vefat etmiştir?

.....

Kısaltmalar

❖ Aşağıdaki çocukların işaret ettikleri bölümleri inceleyiniz. İstedikleri bilgileri yazınız.

cm →

Cad. →

Apt. →

Sok. →

MÖ →

TL →

Gönderen →

Uzman Çavuş →


Kuruş →

kilometre →


Sayın →

Türkiye Cumhuriyeti →

Verilen kısaltmaları, uzun şekilleri ile yazınız.



Verilen kelimelerin kısaltmalarını yazınız.



❖ Kısaltmalara gelen ekleri inceleyiniz. Eklerin hatalı kullanıldığı cümleleri düzelterek alt taraflarındaki boşluklara yazınız. Doğru kullanılan cümlelerin altlarına ise "DOĞRU" yazınız.

Beş kg'den fazla mandalina alma.
.....


Bugün THY'nın uçuşları başlıyor.
.....

Akşam TRT'da konser var.
.....

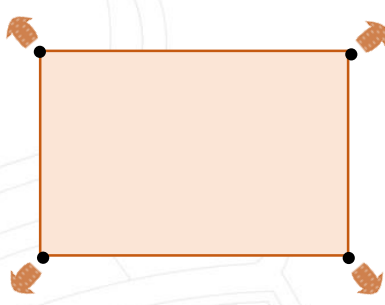
Bu binanın boyu 10 m'den fazladır.
.....

Geometrik şekiller

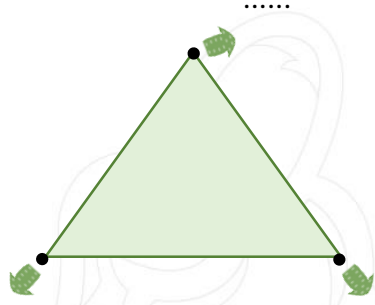
❖ Aşağıdaki geometrik şekilleri isimlendiriniz. Daha sonra isimlerini altlarına yazınız.



..... karesi

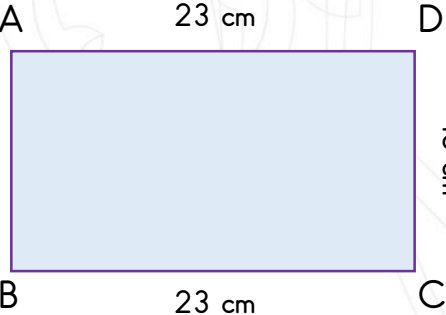



.....dikdörtgeni



..... üçgeni

❖ Aşağıdaki geometrik şekillerin kenar uzunluklarını inceleyiniz. Sorulan soruları cevaplayınız. Boşlukları doldurunuz.






$|AB| = \dots\dots \text{ cm}$

$|BC| = \dots\dots \text{ cm}$

$|CD| = \dots\dots \text{ cm}$

$|AD| = \dots\dots \text{ cm}$

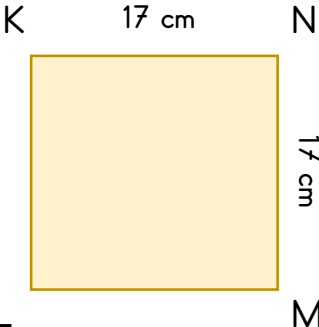



$|AD| - |AB| = \dots\dots \text{ cm}$

$|AB| + |BC| = \dots\dots \text{ cm}$

$|AD| - |BC| = \dots\dots \text{ cm}$

$|BC| \times |AB| = \dots\dots \text{ cm}$






$|KN| = \dots\dots \text{ cm}$

$|NM| = \dots\dots \text{ cm}$

$|LM| = \dots\dots \text{ cm}$

$|KL| = \dots\dots \text{ cm}$



$|KN| - |NM| = \dots\dots \text{ cm}$

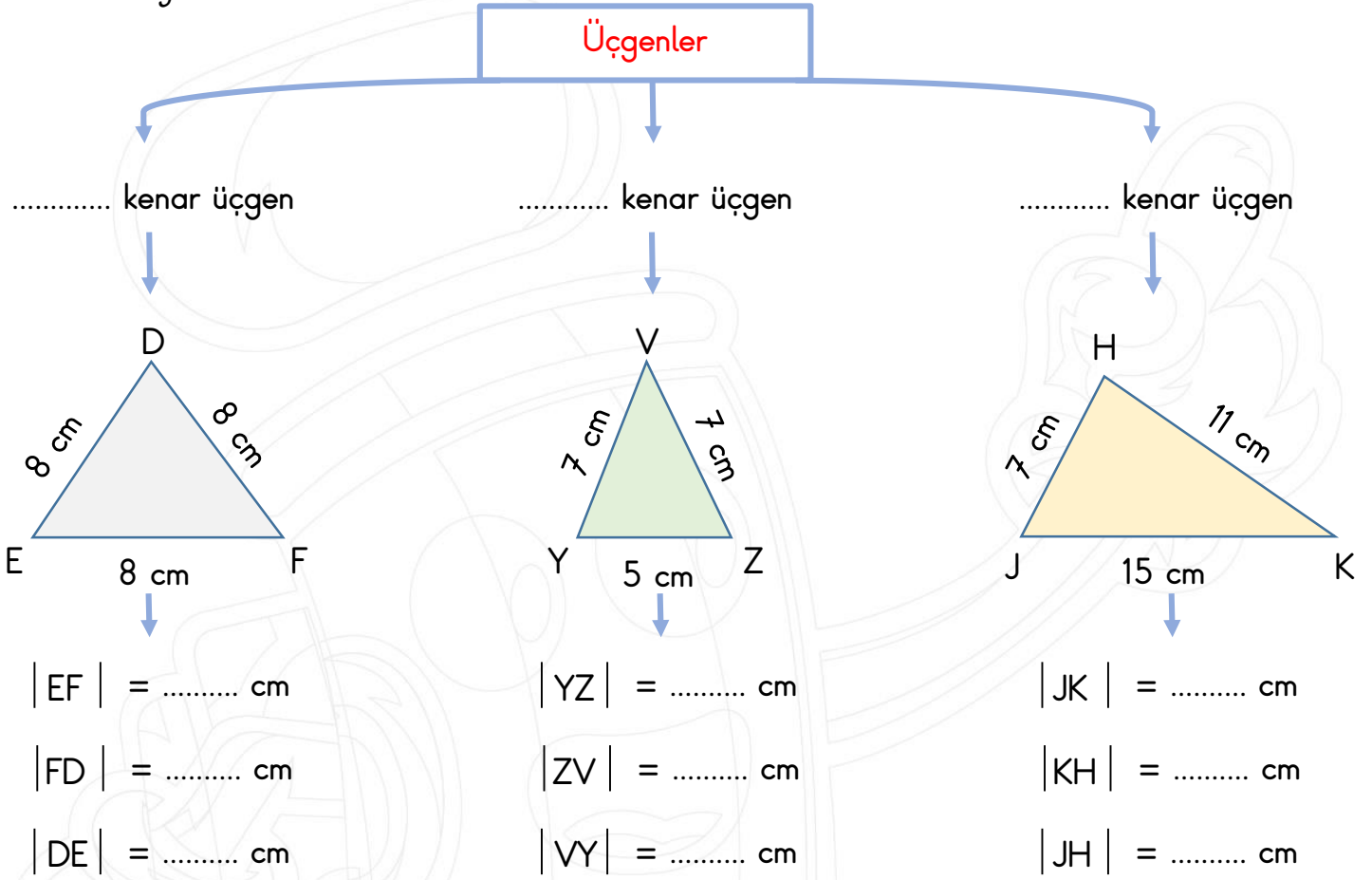
$|KL| + |LM| = \dots\dots \text{ cm}$

$|LM| - |MN| = \dots\dots \text{ cm}$

$|LK| \times |NK| = \dots\dots \text{ cm}$

Kenarlarına göre üçgen çeşitleri

❖ Üçgenlerin çeşitlerini, kenar uzunluklarını inceleyerek yazınız. Daha sonra alt taraflarındaki bölümlere kenar uzunluklarını yazınız.

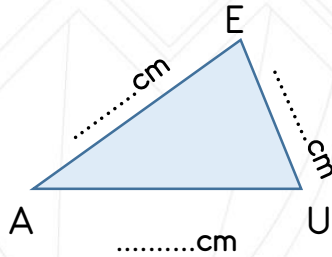


❖ Aşağıda verilen üçgenlerin, kenar uzunluklarını ilgili alanlara yazınız. Daha sonra üçgenin çeşidini noktalı yerlere yazınız.

|AE| = 12 cm

|EU| = 8 cm

|AU| = 15 cm

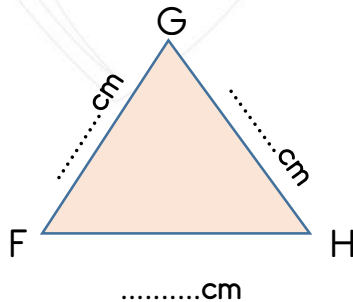


..... kenar üçgen

|FG| = 10 cm

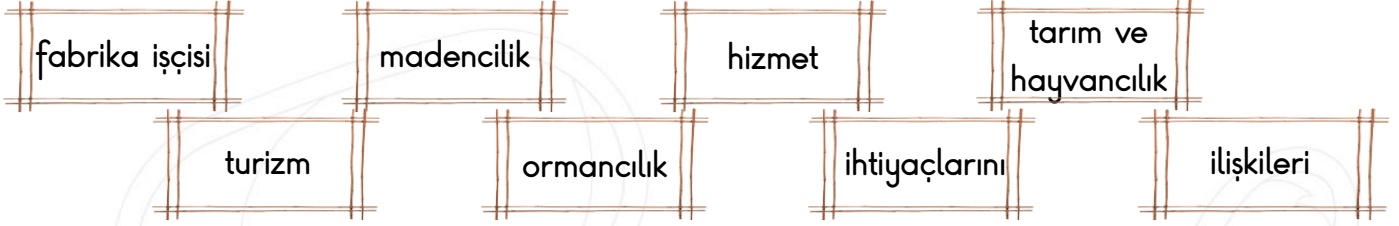
|GH| = 10 cm

|FH| = 9 cm



..... kenar üçgen

Çevremizdeki ekonomik faaliyetler



- ✚ Şoför , hemşire , avukat gibi meslekler , sektöründe hizmet verirler.
- ✚ Tüm mesleklerin birbirleriyle vardır. Her meslek grubu diğerine yardımcı olur.
- ✚ Meslekler , insanların karşılamak için ortaya çıkmışlardır.
- ✚ Çiftçiler sektöründe hizmet verirler.
- ✚ sanayi sektöründe hizmet verir.
- ✚ Yer altı kaynaklarının çıkarılmasında sektörü hizmet verir.
- ✚ Yaz aylarında özellikle sahil kenarlarında. sektörü hareketlenir.
- ✚ Mobilya sektörüne ham madde veren sektör sektördür.



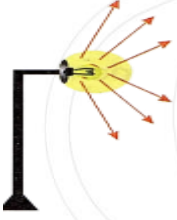
❖ Aşağıdaki tabloda bazı meslekler sıralanmıştır. Bu meslekleri inceleyerek, hangi sektörlerle ait olduklarını bulunuz. Tabloda yer alan boşluklardaki, uygun olan yerlere ✓ işareti koyunuz.



	Tarım ve hayvancılık	Sanayii	Gıda	Turizm	Madencilik	Hizmet
Polis →						
Çiftçi →						
Otel işletmecisi →						
Fabrika işçisi →						
Mandıracı →						
Kömür madeni işçisi →						
Marketçi →						
Öğretmen →						
Fırıncı →						
Animatör →						

Doğru aydınlatma


❖ Aşağıdaki aydınlatma yöntemlerini inceleyiniz. Doğru aydınlatmaların altına "doğru", yanlış aydınlatmaların altına "yanlış" yazınız.



.....



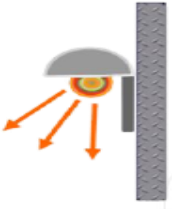
.....



.....



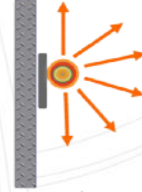
.....




.....



.....



.....



.....

❖ Bilgi ağacını inceleyiniz. Bilgi ağacında yer alan sözcükleri, gereken boşluklara yerleştiriniz.

Evimizde odalarımızı gereğinden fazla
..... yanlıştır.

Gereğinden fazla veya gereğinden az ışık zarar verir.

sol

Güneş

Sağ elle yazı yazan insanların , ışık
..... tarafından gelmelidir.

Çıplak gözle'e bakmamalıyız.

karanlık

kirliliğine

gözümüze

Bilgisayarı ortamda kullanmamalıyız.

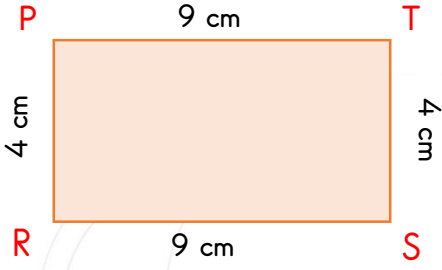
Yanlış aydınlatma ışık yol açar.

aydınlatmamız

gereksiz

Aydınlatmada olan bölgeler aydınlatılmamalıdır.

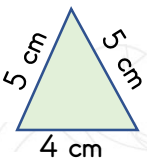
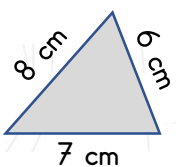
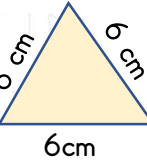
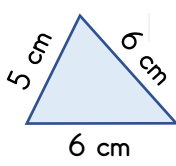
MİNİ TEST



1- Yukarıdaki dikdörtgene göre, aşağıda verilen bilgilerden hangisi yanlıştır?

- A) $|PT| - |ST| =$ işleminin sonucu 5 cm'dir.
 B) $|RS| + |PT| =$ işleminin sonucu 18 cm'dir.
 C) $|PR| \times |PT| =$ işleminin sonucu 81 cm'dir.
 D) Tüm kenarların toplam uzunluğu 26 cm'dir.

2- Aşağıdakilerin hangisi *çesitkenar* üçgendir?

- A)  B) 
 C)  D) 

3- Üçgenler ile ilgili verilen bilgilerden hangisi doğrudur?

- A) Tüm kenarları aynı uzunlukta olan üçgene ikizkenar üçgen denir.
 B) İki kenarı aynı uzunlukta olan üçgene eşkenar üçgen denir.
 C) Çesitkenar üçgenlerin tüm kenarları farklı uzunluktadır.
 D) Kenarlarına göre üçgenler dört gruba ayrılır.

4- Aşağıdaki cümlelerin hangisinde kısaltma kullanılmamıştır?

- A) Bugün Dr. Hasan Bey gelecek.
 B) Ayşe'nin boyu 145 santimetre geldi.
 C) Bursa ile Ankara'nın arası 390 km'dir.
 D) Uz.Çvş. Ali Erbaş siz misiniz?



5- Yukarıdaki kelimelerin altlarına kısaltmalarını yazarsak, sırasıyla hangi kısaltmaları yazmalıyız?





- A) Do. - Ap. B) Dr. - Apt.
 C) Dr. - Apm. D) D. - A.

TCDD 'nin hızlı tren seferi başladı.

6- Yukarıdaki kısaltmaya ek getirilirken yanlışlık yapılmıştır. Bu yanlışlık nedir?

- A) Kesme işaretinin konulması yanlıştır.
 B) Ekin ayrı olarak yazılması yanlıştır.
 C) Kısaltmaya, -nin eki gelmeliydi. -nin ekinin getirilmesi yanlıştır.
 D) Hiç ek gelmemeliydi. Ek getirilmesi yanlıştır.

7- Aşağıdaki mesleklerden hangisi hizmet sektöründe yer almaz?

- A)  B) 
- C)  D) 

() Otel işletmecileri turizm sektöründe hizmet verirler.

() İtfaiyeciler hizmet sektöründe yer alırlar.

() Çiftçiler ormancılık sektöründe hizmet verirler.

8- Yukarıdaki tümcelerın doğru olanlarının başına " D " ve yanlış olanlarının başına " Y " koyarsak, sonuç hangisi olur?

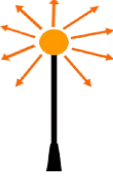
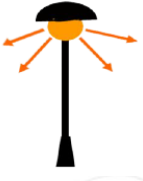


- A) Y - Y - D B) Y - Y - Y
C) D - D - Y D) D - D - D

Yer altı kaynaklarının çıkarılmasını sağlayan sektör sektörüdür.

9- Yukarıdaki tümcedeki boş bırakılan yere aşağıdakilerden hangisi gelmelidir?

- A) ormancılık B) madencilik
C) fırıncılık D) arkeoloji

10- Hangisi yanlış bir aydınlatmadır?

- A)  B) 
- C)  D) 

Aydınlatma yapılırken bölgeler aydınlatılmamalıdır.

11- Boş bırakılan yere hangisini yazabiliriz?

- A) karanlık B) görünmeyen
C) eski D) gereksiz

() Çıplak gözle Güneş'e bakmamalıyız.

() Sağ eliyle yazı yazan birinin çalışma masasındaki ışık sol taraftan gelmelidir.

() Ne kadar çok ışık kullanırsak o kadar iyi aydınlanırız.

12- Yukarıdaki tümcelerın doğru olanlarının başına " D " ve yanlış olanlarının başına " Y " koyarsak, sonuç hangisi olur?

- A) Y - D - D B) D - D - Y
C) Y - D - Y D) D - D - D