

ücretsiz

1, 2, 3 VE 4. SINIFLAR



# ONLINE DENEME SINAVI



ÖDÜL:  
2 ADET TABLET



**Başlangıç**  
25 Mart 10.00

**Bitiş**  
28 Mart 22.00



## HUYLU HUYUNDAN VAZGEÇER Mİ?



Hayvanlar aleminin en zehirli yaratıklarından biri de akrep- tir. İşte bu akreplerden bir tanesi, bir gün dere kenarına gelmiş. Derenin karşısına geçmesi gerekiyormuş. Dere kenarında bir yukarı, bir aşağı gidip gelmiş ama geçecek bir yer bulamamış. Etrafına bakınmaya başlamış. Dere kenarında güneşlenmekte olan bir kurbağa görünce aklına bir fikir gelmiş.

Kurbağanın yanına varmış:

- Kurbağa kardeş! Derenin karşısına geçmem gerekiyor. Ge-

çecek uygun bir yer bulamadım. Beni sırtına alıp karşıya geçmeme yardım eder misin?

Kurbağa:

- Sayın akrep! Sen zehirli bir hayvansın. Yolda beni zehirlersin. Seni sırtıma almam hiç akıllıca olmaz.

Akrep:

- Kurbağa kardeş! Seni yolda zehirlersen sen de ölürsün, ben de ölürüm. Böyle bir şey niçin yapayım ki? Bu cevap kurbağaya mantıklı gelmiş. Almış akrebi sırtına başlamış yüzmeye. Derenin ortasına gelince kurbağa sırtında bir acı hissetmiş. Akrebe dönmüş. Maalesef akrep kurbağayı zehirlemiş.

Kurbağa halsiz bir şekilde sormuş:

- Şimdi ikimiz de öleceğiz. Niçin böyle bir şey yaptın?

Akrep:

- Seni sokmamak için çok sabrettim, çok uğraşım ama başaramadım. Huylu huyundan vazgeçemiyor be kurbağa kardeş!

❖ *Aşağıdaki soruları metne göre cevaplayalım.*

1. Akrep, kurbağanın niçin böyle yaptın? Sorusuna nasıl cevap vermiş?

.....  
.....

2. Kurbağa neden akrebi sırtına almak istememiş?

.....  
.....

3. Akrep kurbağayı nasıl ikna etmiş?

.....  
.....

❖ *Aşağıdaki kelimelerin anlamlarını bulup cümle içinde kullanalım.*

huy

Anlamı: .....

Cümle: .....

yaratık

Anlamı: .....

Cümle: .....

❖ Aşağıdaki görsellerin ifade ettiği sesteş kelimeleri farklı anlamlarıyla cümle içinde kullanalım.



1. Anlamı: .....

2. Anlamı: .....



1. Anlamı: .....

2. Anlamı: .....



1. Anlamı: .....

2. Anlamı: .....

❖ Aşağıdaki kelimelerden özel ad olanların altına ✓ işareti koyalım.

İstanbul Boğazı



Bağcılar



Kitaplık



Karabaş



Brezilya



Van Gölü



Apartman



Sokak



Dağ



Dünya



❖ Aşağıdaki cümlelerdeki altı çizili kelimelerin eş anlamlılarını kullanarak cümleleri tekrar yazalım.

➤ Bodrum katın duvarları iyice nemlenmiş.

.....

➤ Sınavdaki kelimelerin anlamını biliyor muydun?

.....

➤ Artık arkadaşlarının sana inanması çok zor.

.....

➤ Hakim şahitleri dinlemek üzere yanına çağırdı.

.....

➤ Atatürk " Yurtta sulh, cihanda sulh " demiştir.

.....

➤ Sınıfımızı temiz tutmak bizim görevimizdir.


.....


❖ Aşağıdaki nesnelerin gerçek kütlelerine en uygun olanı örnekteki gibi işaretleyelim.







50 g  5 kg  500 g







3 g  5 kg  100 g







20 kg  2 kg  200 g







25 kg  5 kg  500 g





10 kg  2 kg  200 g







20 kg  3 kg  300 g

❖ Aşağıdaki problemleri çözelim.

1. 3 kardeşin kütleleri toplamı 125 kg'dır. Ortaanca kardeşin kütlesi küçük kardeşin kütlesinden 6 kg fazladır. Küçük kardeş 28 kg olduğuna göre en büyük kardeşin kütlesi kaç kg'dır?



2. 3 kilosu 18 TL olan patatesten 25 kg aldım. Pazarıcıya 160 TL ödedim. Kaç TL para üstü almam gerekir?



3. 4 tane pizza yapmak isteyen Buse 1 pizza için 125 g sucuk ve 85 g kaşar peynir kullanmaktadır. Buse 4 pizza yaptığında toplam kaç gram malzeme kullanmış olur?



4. 1 kasa elma 33 kg gelmektedir. Elmaların 5 kilosu 20 TL olduğuna göre 1 kasa elmanın fiyatı kaç TL olur?





❖ *Aşağıdaki problemleri çözelim.*



5. Yukarıdaki karpuzun kilogram fiyatı 4 TL'dir. Bu karpuzdan 3 tane almak için satıcıya kaç TL ödemeliyiz?

6. Sıla 25 kg gelmektedir. Kardeşinin kütlesi Sıla'dan 11 kg eksik olduğuna göre iki kardeşin kütleleri toplamı kaç kg'dır?

7. 3 kg mandalina 36 TL ise 5 kg mandalina kaç TL'dir?

8. Annem pilav yaparken 245 g pirinç kullanmaktadır. Annem 3 defa pilav yaptığında kaç gram pirinç kullanmış olur?



9. Yukarıdaki fıstığın fiyatı 26 TL'dir. Bu fıstıktan 500 g alırsam satıcıya kaç TL ödemem gerekir?

10. Aslı kedisine günde 34 g mama vermektedir. Aslı'nın kedisini 2 haftada kaç gram mama yemiştir?

11. Mustafa 7 kilosu 21 TL olan çileklerden 4 kilo almak istiyor. Mustafa'nın çilekleri alabilmesi için kaç TL parası olmalı?

12. Bir paket gofret 200 gramdır. Bir pakette 20 gofret olduğuna göre bir gofret kaç gram gelir?

❖ Aşağıdaki görsellerin ifade ettiği kelimeleri uygun yerlere yazalım.



Dağ



Peri Bacaları


 Pamukkale  
Travertenleri


Orman



Baraj



Park



Köprü



Havuz

### DOĞAL ÇEVRE

.....  
 .....  
 .....  
 .....

### YAPAY ÇEVRE

.....  
 .....  
 .....  
 .....

❖ Aşağıdaki bilgilerden doğru olanlara ( D ), yanlış olanlara ( Y ) yazalım.

( ... ) Yakın çevremizde bizimle beraber birçok canlı yaşamaktadır.

( ... ) Çevremizi temiz tutmak sadece temizlik işçilerinin görevidir.

( ... ) İnsanlar yaşadıkları doğal çevreyi ihtiyaçları doğrultusunda değiştirmiştir.

( ... ) Evimiz, okulumuz, mahallemiz, parkımız yakın çevremizi oluşturur.

( ... ) Lağım suları nehirlere, göllere ve okyanuslara ulaşırsa orada yaşayan canlılara zarar verir.

❖ Aşağıdaki soruları cevaplandıralım.

1. Aşağıdakilerden hangisi doğal çevrelere örnek olarak verilemez?

A. Ovalar

B. Çiftlikler

C. Göller



2. Yukarıdaki durum aşağıdakilerden hangisinin sonucudur?

A. Hava kirliliği

B. Su kirliliği

C. Toprak kirliliği

I. Çevre kirliliği tüm canlıların yaşamını olumsuz etkiler.

II. İnsanlar doğal çevrenin bozulmasına sebep olan canlıların en başında gelir.

III. Çevremizi korumak için kaynakları özenli kullanmak zorundayız.

3. Yukarıda ki bilgilerden hangisi ya da hangileri doğrudur?

A. I ve III

B. II ve III

C. I, II ve III

❖ *Aşağıdaki boşlukları uygun kelimelerle dolduralım.*

söz hakkı

29 Ekim

hak - özgürlük

Cumhuriyet

seçme - seçilme

Cumhurbaşkanı

- Cumhuriyet ..... bin dokuz yüz yirmi üç yılında ilan edildi.
- Halkın kendi yöneticilerini kendisinin seçtiği yönetim şekli ..... tir.
- Cumhuriyet ilan edildikten sonra Mustafa Kemal Atatürk ilk ..... seçilmiştir.
- Türk milleti Cumhuriyetin ilanından sonra pek çok ..... ve ..... elde etmiştir.
- Cumhuriyet ilan edilmeden önce halkın yönetimde ..... yoktu.
- Cumhuriyetin ilan edilmesinden sonra kadınlara ..... ve ..... hakkı verildi.

❖ *Aşağıdaki bilgilerden doğru olanlara ( D ), yanlış olanlara ( Y ) yazalım.*

- ( ... ) Cumhuriyetle birlikte kişilerin seyahat etme özgürlükleri devlet tarafından güvence altına alındı.
- ( ... ) Cumhuriyet İstanbul'da Türkiye Büyük Millet Meclisinde ilan edilmiştir.
- ( ... ) Cumhuriyet ilan edilmeden önce ülkemizin adı Osmanlı Devleti idi.
- ( ... ) Cumhuriyetin ilanı ile birlikte padişahlık sistemi ortadan kalkmış oldu.

❖ *Aşağıdaki soruları cevaplayalım.*

1. Aşağıdaki tarihi ve turistik yerlerden hangisi İstanbul'da bulunmaz?

- A. Ayasofya Camii
- B. Göbeklitepe
- C. Kız Kulesi

2. Aşağıdakilerden hangisi çevremizdeki tarihi ve turistik yerlerin önemi ile ilgili değildir?

- A. Yaşadığımız yer herkes tarafından bilinir olur.
- B. Yaşadığımız yerin daha gelişmiş olmasını sağlar.
- C. Bu mekânlar çocuklara güvenli oyun alanları olur.



3. Yukarıdaki görselde yer alan turistik mekan hangi şehrimizde yer almaktadır?

- A. Eskişehir
- B. Nevşehir
- C. Kırşehir

4. Aşağıdakilerden hangisi ülkemizin doğal güzelliklerinden değildir?

- A. Düden şelalesi
- B. Topkapı sarayı
- C. Pamukkale Travertenleri