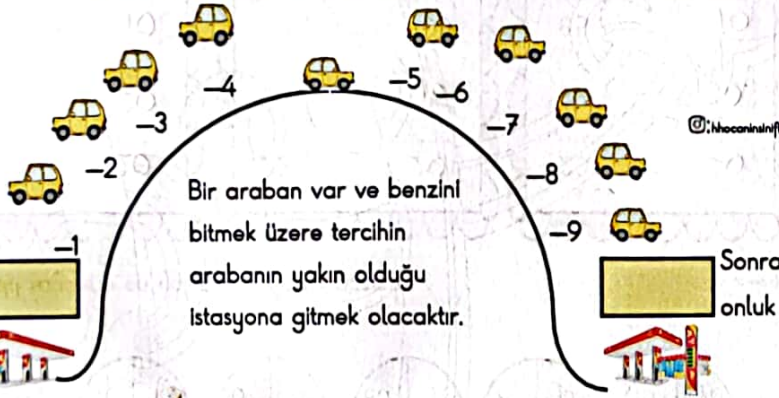



Ad Soyad:.....
Sınıf:.....
Numarası:.....

Sayıların hangi onluğa yakın olduğunu bulmak için birler basamağına bakılır. Sayının birler basamağı 5 ya da 5'ten büyükse sonraki onluğa, birler basamağı 5'ten küçükse önceki onluğa yakındır.

Örnek: 47 sayısı 40 ve 50 onlukları arasında ama 50 ye daha yakın.



Önceki onluk

Sonraki onluk

Aşağıdaki doğal sayıların hangi onluklar arasında olduğunu yazalım.

40	41	50	50	53	60	40	47	50
70	76	80	10	14	20	70	78	80
30	35	40	80	87	90	50	59	60
60	64	70	90	94	100	90	99	100

Aşağıda verilen doğal sayıların en yakın oldukları onlukları belirleyip karşındaki kutucuklara yazınız.

46 → 50

19 → 20

57 → 60

23 → 20

81 → 80

99 → 100

75 → 80

64 → 60



95 → 100

37 → 40

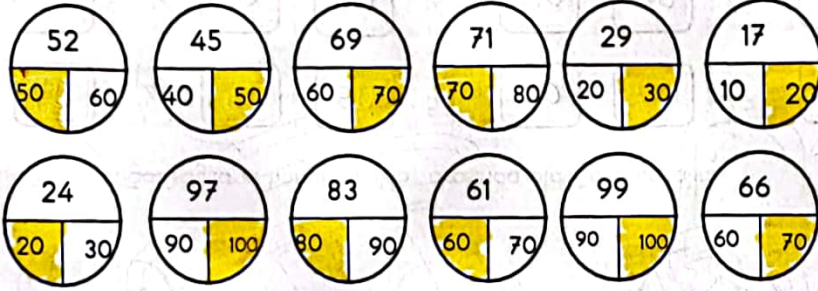
32 → 30

55 → 60

Papatyaların ortasındaki sayıları okuyunuz. Bu onluklara en yakın sayıları boyayınız.




Aşağıdaki doğal sayıların hangi onluğa yakın olduğunu bulunuz ve boyayınız.



Aşağıdaki sayıların en yakın onluklarını yazınız.

@:hocamınif



Aşağıda verilen çoktan seçmeli soruları cevaplayınız.

70

- 1) Aşağıda verilen sayılardan hangi yukarıda verilen sayıya yuvarlanmaz?
A) 65 B) 68 C) 64

- 2) En yakın onluğu 50 olan en büyük doğal sayının rakamları toplamı kaçtır?
A) 8 B) 9 C) 10

- 3) Hangi seçenekteki sayıların hepsi 80'e yuvarlanabilir?
A) 84-86-88 B) 84-82-83 C) 85-87-89

4) Aşağıdaki sayılardan hangisinin en yakın onluğa yuvarlanmış hali yanlış verilmiştir?

Sayı	Onluğa yuvarlanmış hali
A) 55	50
B) 65	70
C) 69	70



@:hocamınif

Alî'nin babası Alî'ye 80 tl'ye futbol topu almıştır. Alî'nin babası futbol topunun fiyatını en yakın onluğa yuvarlayıp söylemiştir.

5) Alî'nin babası futbol topunu kaç liraya almış olabilir?

- A) 78 B) 86 C) 89

6) Dörder dörder saydığımızda 7. Söylediğimiz sayı hangi onluğa yakındır?

- A) 25 B) 30 C) 20

25 . 36 . 42 . 23 . 28 . 31 , 37

7) Yukarıdaki sayılardan kaç tanesi 40 sayısına yuvarlanabilir?

A) 1 B) 2 C) 3

8) Onlar basamağında 8 ve birler basamağında 3 olan sayı hangi onluğa yuvarlanır?

A) 80 B) 70 C) 90

87 → 90

75 → 70

41 → 40

23 → 20

9) Yukarıdaki sayılar en yakın onluğa yuvarlanmıştır. Buna göre kaç tanesi doğrudur?

A) 2 B) 3 C) 4

10) 4 birlik ve 5 onluktan oluşan sayı hangi onluğa yuvarlanır?

A) 50 B) 60 C) 40

11) Aşağıdaki sayıların yanına en yakın oldukları onluklar yazılmıştır. Hangisi yanlıştır?

A) 42 → 40

B) 55 → 60

C) 54 → 60

12) Aşağıdaki sayılardan hangisinin en yakın olduğu onluk 70 değildir?

A) 64 B) 65 C) 66

13) Aşağıdaki sayılardan hangisi 50'ye yakındır?

A) 43 B) 44 C) 45