



## FARELİ KÖYÜN KAVALCISI



Evvel zaman içinde Hamelin adında bir köy varmış. Hamelin, Almanya'da nehrin kenarında sakin ve sevimli bir köymüş. Fakat köy halkı, bu güzel yerin değerini bilememiş. Hamelin'i kirlenmişler. Yollara, evlerinin önüne ve gittikleri her yere çöp atmışlar. Bunun sonucunda köyü fareler basmış.

Köy halkı, köyün yöneticisinin evine giderek yardım istemiş. "Fareleri yok edin! Fareler yok edilmeli!" demişler. Yönetici "Bir çözüm bulmak için toplantı yapacağız. Biraz zaman verin." demiş. Yönetici toplantılar yapmış, çeşitli yöntemler denemiş ama nafile. Fareler için bir türlü çözüm bulunamamış. Meclis çaresizce ne yapacağını düşünürken, aniden kapı

çalınmış. İçeri bir adam girmiş. Gördükleri en garip adammış. Kırmızı renkli bir palto giyiyormuş. Zayıf ve uzun boyluymuş. Parmakları kaval çalarmış gibi durmadan oynuyormuş. Yönetici "Yoksa sirkten mi kaçtın?" demiş. Adam ise "Bana kavalcı derler, gizemli bir becerim var. Dünyadaki bütün canlıları toplayabilirim. Bu becerimi zararlı hayvanlar için kullanıyorum. Kurbağa, yılan ve fare gibi." diye cevap vermiş. Yönetici "Fare mi?" diye yerinden fırlamış. "Bizi farelerden kurtarabilir misin?" diye heyecanla sormuş. Kavalcı "Evet kurtarabilirim." demiş. Yönetici "Tamam becerini göster ve bizi o farelerden kurtar." diye sevinçle haykırarak. Kavalcı "Elbette efendim ama bunun için bana istediğim ücreti verecek misiniz?" diye sormuş. Yönetici "Evet tabi ki ne istersen..." demiş. Fareli Köyün Kavalcısı sokağa çıkarak gülümsemiş. Kavalını eline almış. Kavalıyla üç dize ses çıkarmış. Büyülenmişcesine tüm fareler kemirdikleri yiyecekleri bırakıp evlerden, ayakkabılardan, şapkalardan çıkmışlar. Hepsi kavalcıyı takip etmeye başlamışlar. Nehre gelene dek adım adım ilerlemişler. Hamelin halkının ağız açık kalmış. Kavalcı suyun üzerinde bir kayaya zıplamış. Orada dikilerek kaval çalmaya devam etmiş. Fareler de onu takip ederlerken nehre düşerek boğulmuşlar. Hamelin köyü farelerden kurtulmuş. Kavalcı ödülünü almak için yöneticiye gitmiş. Ama yönetici sözünü tutmamış. Kavalcı sinirlenerek, "Bu yaptığınız doğru değil! Neler yapabileceğimi size göstereceğim. Köyün bütün çocuklarını peşimden sürükleyeceğim!" demiş. Kavalcı salondan ayrılmış. Sokağa çıkıp yine kavalını çıkarmış ve çalmaya başlamış. Ancak bu kez çaldığı farklı bir melodiymiş. Bir anda tüm çocuklar teker teker kavalcının arkasından yürümeye başlamışlar. Fareli köyün kavalcısı yürürken çocuklar onu takip ediyorlarmış. Melodi anne ve babalarını da büyülemiş. Yerlerinden kıpırdayamamışlar.

Yönetici gözlerine inanmamış. Çocukların gitmekte olduğunu görünce eli ayağına dolaşmış. Pişman olarak sözünü tutmuş. Kavalcının ücretini vermek zorunda kalmış. Kavalcı da kavalı çalmayı bırakmış. Çocuklar evlerine dönmüşler. Fareler yok olmuşlar. Hamelin köyü tertemiz bir köy haline gelmiş.

Hans Christian Andersen (Kısaltılmıştır)

1- Masalın geçtiği köyün adı nedir?

.....

2- Köyü neden fareler basmış?

.....

3- Kavalcının olağan üstü yeteneği neymiş?

.....

4- Fareler neden ölmüşler?

.....

5- Kavalcı neden çocukları peşinden sürüklemiş?

.....

6- Çocukların gittiğini gören yönetici ne yapmış?

.....

## Atasözleri (Tekrar)

❖ Kelime çarkındaki kelimeleri inceleyiniz. Uygun olan kelimelerle atasözlerini tamamlayınız.

Dağ dağa ..... insan insana kavuşur.

Besle kargayı oysun .....

..... küpüne zarar.


Sakla ..... gelir zamanı.

..... üstündür.

Erken öten ..... başını keserler.

Gülü seven ..... katlanır.

Takke düştü ..... göründü.



❖ Aşağıda verilen atasözlerinin anlamlarını alt taraflarındaki boşluklara yazınız.

İki karpuz bir koltuğa sığmaz.

Komşu komşunun külüne muhtaçtır.

Yazın başı pişenin kışın aşı pişer.

İşleyen demir pas tutmaz.

Üzüm üzüme baka baka kararır.

Ayağını yorganına göre uzat.

### Yarım ve çeyrek kilogram

❖ Aşağıdaki terazilerde bulunan kütle ölçüleri arasındaki çevirmeleri yapınız.

9 kg ..... çeyrek kg

6 kg ..... yarım kg

16 kg ..... çeyrek kg

5 kg ..... çeyrek kg

4 kg ..... çeyrek kg

10 kg ..... yarım kg

8 çeyrek kg ..... kg

6 yarım kg ..... kg

16 çeyrek kg ..... kg

❖ Aşağıda verilen kütle ölçülerini inceleyiniz. Boşlukları doldurunuz.

1 kg = ? ..... g      ? ..... g









1 kg = ? ..... g      ? ..... g      ? ..... g      ? ..... g

250 g      250 g      250 g      250 g = ? ..... kg

500 g      500 g = ? ..... kg

Ton ve miligram

❖ Aşağıdaki varlıkların altlarına, kütlelerinin hangi birimle ölçülebileceğini yazınız. (kilogram, gram, miligram veya ton)

			
.....	.....	.....	.....
			
.....	.....	.....	.....

❖ Kütle ölçüleri arasındaki çevirmeleri yapınız. ( ton, kilogram )

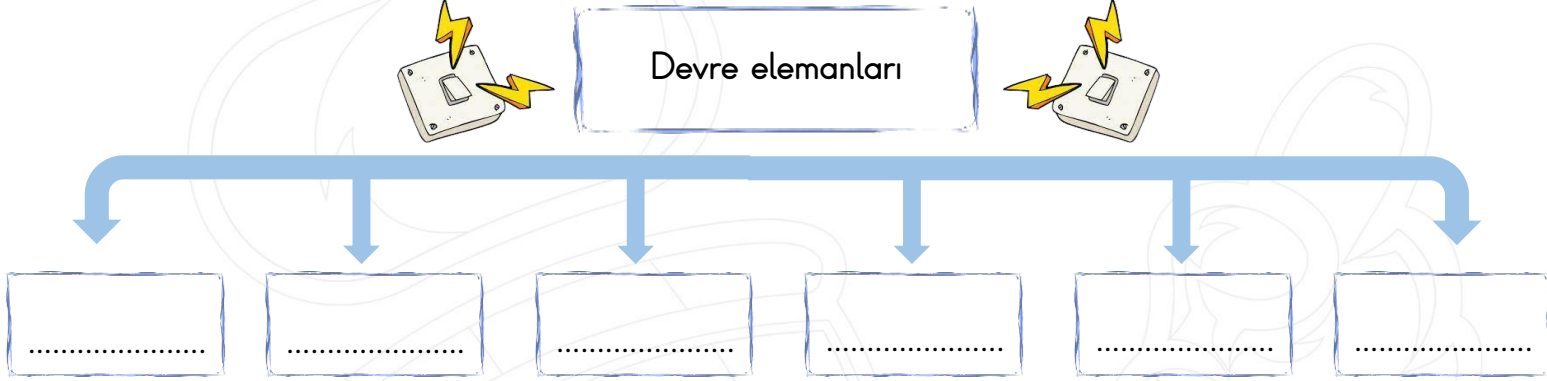
3 ton = ..... kg	8000 kg = ..... ton	4 ton = ..... kg
12 ton = ..... kg	5000 kg = ..... ton	22 ton = ..... kg
13 ton = ..... kg	60000 kg = ..... ton	9 ton = ..... kg

❖ Kütle ölçüleri arasındaki çevirmeleri yapınız. ( gram, miligram )

3 g = ..... mg	2000 mg = ..... g	35000 mg = ..... g
21 g = ..... mg	12000 mg = ..... g	7000 mg = ..... g
33 g = ..... mg	6000 mg = ..... g	6000 mg = ..... g

## Devre elemanları ve görevleri

❖ Aşağıda verilen şemayı inceleyiniz. Şemadaki boşluklara, elektrik devre elemanlarının adlarını yazınız.



❖ Aşağıdaki devre elemanlarının isimlerini ve görevlerini yazınız.



Adı: .....  
Görevi: .....



Adı: .....  
Görevi: .....



Adı: .....  
Görevi: .....



Adı: .....  
Görevi: .....



Adı: .....  
Görevi: .....



Adı: .....  
Görevi: .....

### Komşularımız ve Türk Cumhuriyetleri

❖ Türk Cumhuriyetleri ile ilgili istenilen bilgileri boşluklara yazınız.

#### TÜRK CUMHURİYETLERİ

##### Kırgızistan



Dili : .....  
Başkenti: .....  
Nüfusu : .....

##### Azerbaycan



Dili : .....  
Başkenti: .....  
Nüfusu : .....

##### Özbekistan



Dili : .....  
Başkenti: .....  
Nüfusu : .....

##### Kazakistan



Dili : .....  
Başkenti: .....  
Nüfusu : .....

##### KKTC



Dili : .....  
Başkenti: .....  
Nüfusu : .....

##### Türkmenistan



Dili : .....  
Başkenti: .....  
Nüfusu : .....

❖ Ülkemizin komşuları ile ilgili istenilen bilgileri boşluklara yazınız.

##### Bulgaristan



Dili : .....  
Başkenti: .....  
Nüfusu : .....

#### KOMŞULARIMIZ

##### Nahcivan



Dili : .....  
Başkenti: .....  
Nüfusu : .....

##### İran



Dili : .....  
Başkenti: .....  
Nüfusu : .....

##### İrak



Dili : .....  
Başkenti: .....  
Nüfusu : .....

##### Suriye



Dili : .....  
Başkenti: .....  
Nüfusu : .....

##### Yunanistan



Dili : .....  
Başkenti: .....  
Nüfusu : .....

##### Gürcistan



Dili : .....  
Başkenti: .....  
Nüfusu : .....

##### Ermenistan



Dili : .....  
Başkenti: .....  
Nüfusu : .....

## MİNİ TEST

$2 \text{ ton} = 20 \text{ kg}$

$7000 \text{ kg} = 7 \text{ ton}$

$4 \text{ g} = 4000 \text{ mg}$

$30000 \text{ mg} = 3 \text{ g}$

$6 \text{ ton} = 6000 \text{ kg}$

$800 \text{ kg} = 8 \text{ ton}$

$12 \text{ g} = 12000 \text{ mg}$

$90 \text{ mg} = 9 \text{ g}$

1- Yukarıdaki kütle ölçüsü çevirilerinden kaç tanesi yanlıştır?





- A) dört  
B) beş  
C) altı  
D) yedi



2- Yukarıdaki sineğin kütlesi aşağıdakilerden hangisi olabilir?

- A) 8 kg  
B) 95 g  
C) 12 mg  
D) 6 ton

3- Hangisinin kütlesi ton ile ölçülebilir?

- A)  B)   
C)  D) 

El elin eşeğini ..... ararmış.

4- Yukarıdaki atasözünü tamamlarsak boş bırakılan bölümlere ne yazmalıyız?

- A) can atarak  
B) türkü söyleyerek  
C) akıl vererek  
D) isteyerek ve severek

5- Aşağıdaki atasözlerinden hangisi tasarruf ile ilgili değildir?

- A) Damlaya damlaya göl olur.  
B) Keskin sirke küpüne zarar.  
C) Her çok azdan olur.  
D) İşten artmaz dişten artar.

Tembel kişilerden bir iş yapmasını istediğinizde, o işi yapmamak için size farklı fikirler verirler.

6- Yukarıda açıklaması verilen atasözü aşağıdakilerden hangisidir?

- A) Yazın gölge hoş kışın çuval boş.  
B) Tembel kazan geç kaynar.  
C) Kelin ilacı olsa kendi başına sürer.  
D) Tembele iş buyur sana akıl öğretsin.

Kazakistan

Yunanistan

Irak

Gürcistan

Kırgızistan

Azerbaycan

7- Yukarıdaki ülkelerden kaç tanesi ülkemize komşudur?

- A) bir  
B) iki  
C) üç  
D) dört

- ( ) Suriye ülkemize komşu bir ülkedir.  
( ) Gürcistan bir Türk cumhuriyetidir.  
( ) Azerbaycan'ın başkenti Bakü'dür.  
( ) İran'ın resmi dili Farsçadır.

8- Yukarıdaki tümcelerın doğru olanlarının başına " D " ve yanlış olanlarının başına " Y " koyarsak, sonuç aşağıdakilerden hangisi olur ?

- A) D - D - D - Y  
B) Y - Y - Y - D  
C) D - D - Y - Y  
D) D - Y - D - D

9- Aşağıdakilerden hangisi Azerbaycan bayrağıdır?



Devrenin enerji kaynağı pildir.

Anahtar devreyi açıp kapatır.


Pil olmasa da devredeki ampul yanar.

Piller pil yatağına yerleştirilir.

10- Yukarıdaki bilgilerden kaç tanesi doğrudur?

- A) bir  
B) iki  
C) üç  
D) dört

11- Devredeki elektriğin iletimini sağlayan devre elemanı aşağıdakilerden hangisidir?



Devrede ampulün içine yerleştirildiği devre elemanına ..... denir.

12- Yukarıdaki boşluğa ne yazabiliriz ?

- A) kablo  
B) duy  
C) pil yatağı  
D) anahtar