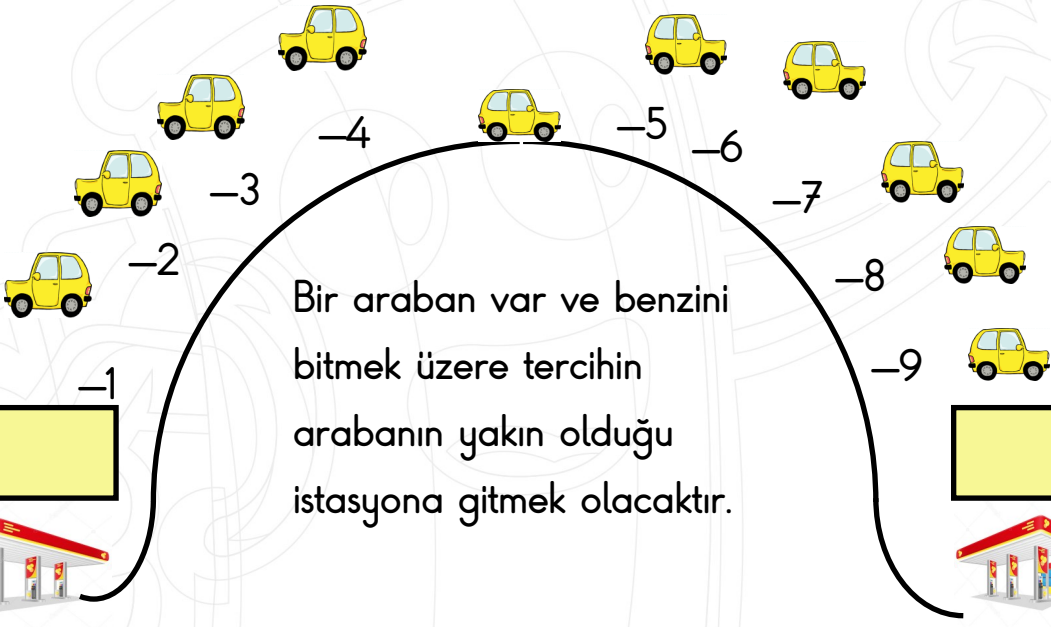
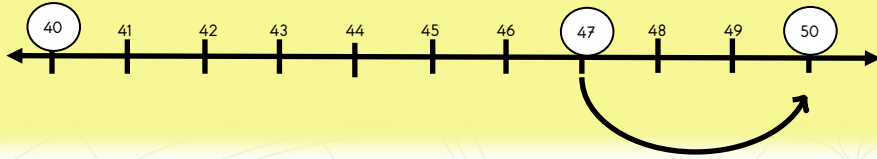


Sayıların hangi onluğa yakın olduğunu bulmak için birler basamağına bakılır. Sayının birler basamağı 5 ya da 5'ten büyükse sonraki onluğa, birler basamağı 5'ten küçükse önceki onluğa yakındır.



Örnek: 47 sayısı 40 ve 50 onlukları arasında ama 50 ye daha yakın.



hhocansinifi

Önceki onluk

Bir araban var ve benzini bitmek üzere tercihin arabanın yakın olduğu istasyona gitmek olacaktır.

Sonraki onluk

Aşağıdaki doğal sayıların hangi onluklar arasında olduğunu yazalım.

□ | 41 | □

□ | 53 | □

□ | 47 | □

□ | 76 | □

□ | 14 | □

□ | 78 | □

□ | 35 | □

□ | 87 | □

□ | 59 | □

□ | 64 | □

□ | 94 | □

□ | 99 | □

Aşağıda verilen doğal sayıların en yakın oldukları onlukları belirleyip karşısındaki kutucuklara yazınız.

46 → 50

19 →

57 →

23 →

81 →

99 →

75 →

64 →

95 →

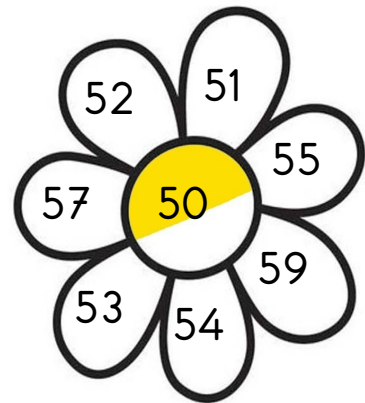

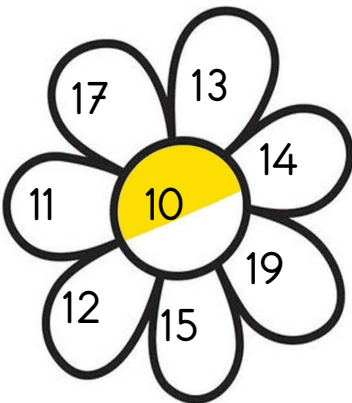

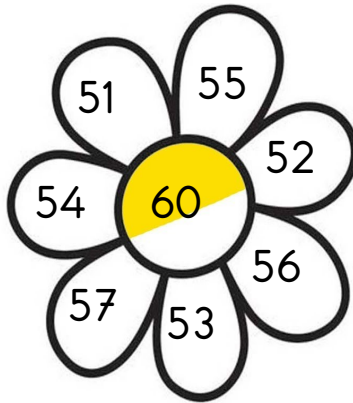
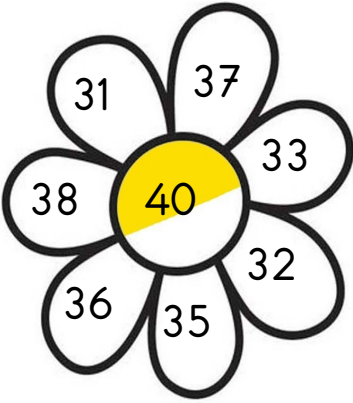
37 →

32 →

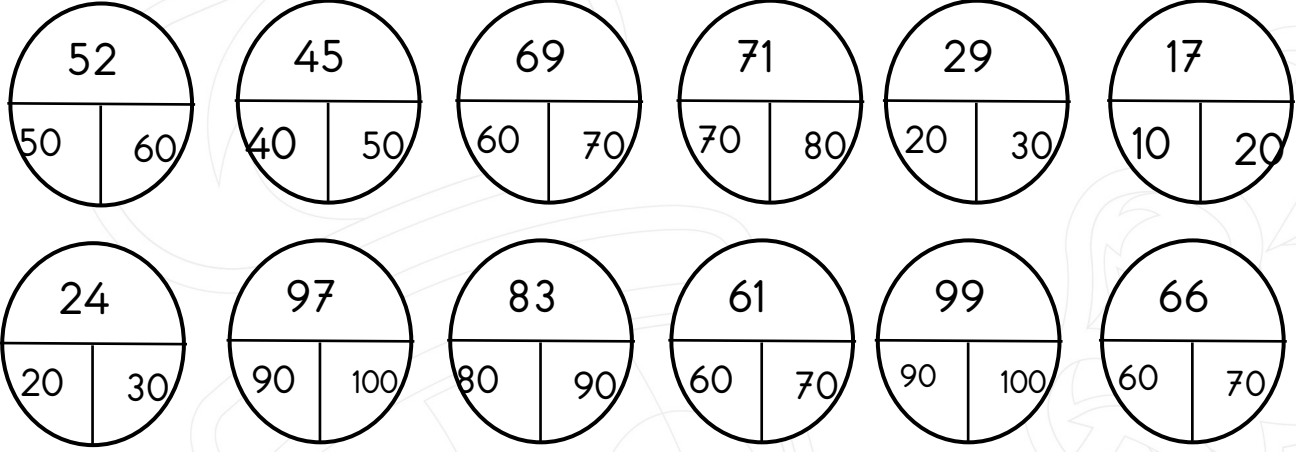
55 →

©:hhocaninsinifi

Papatyaların ortasındaki sayıları okuyunuz. Bu onluklara en yakın sayıları boyayınız



Aşağıdaki doğal sayıların hangi onluğa yakın olduğunu bulunuz ve boyayınız.



Aşağıdaki sayıların en yakın onluklarını yazınız.

©:hhocaninsinifi

24	→	<input type="text"/>	22	→	<input type="text"/>	23	→	<input type="text"/>
16	→	<input type="text"/>	94	→	<input type="text"/>	27	→	<input type="text"/>
35	→	<input type="text"/>	99	→	<input type="text"/>	85	→	<input type="text"/>
66	→	<input type="text"/>	53	→	<input type="text"/>	77	→	<input type="text"/>
47	→	<input type="text"/>	29	→	<input type="text"/>	15	→	<input type="text"/>
53	→	<input type="text"/>	32	→	<input type="text"/>	41	→	<input type="text"/>
79	→	<input type="text"/>	61	→	<input type="text"/>	18	→	<input type="text"/>
44	→	<input type="text"/>	24	→	<input type="text"/>	72	→	<input type="text"/>

Aşağıda verilen çoktan seçmeli soruları cevaplayınız.

70

1) Aşağıda verilen sayılardan hangi yukarıda verilen sayıya yuvarlanmaz?

- A) 65 B) 68 C) 64

2) En yakın onluğa 50 olan en büyük doğal sayının rakamları toplamı kaçtır?

- A) 8
B) 9
C) 10

3) Hangi seçenekteki sayıların hepsi 80'e yuvarlanabilir?

- A) 84-86-88
B) 84-82-83
C) 85-87-89

4) Aşağıdaki sayılardan hangisinin en yakın onluğa yuvarlanmış hali yanlış verilmiştir?

Sayı	Onluğa yuvarlanmış hali
A) 55	50
B) 65	70
C) 69	70



@hhocaninsinifi

Ali'nin babası Ali'ye 80 tl'ye futbol topu almıştır. Ali'nin babası futbol topunun fiyatını en yakın onluğa yuvarlayıp söylemiştir.

5) Ali'nin babası futbol topunu kaç liraya almış olabilir?

- A) 78 B) 86 C) 89

6) Dörder dörder saydığımızda 7. Söylediğimiz sayı hangi onluğa yakındır?

- A) 25 B) 30 C) 20

25 , 36 , 42 , 23 , 28 , 31, 37

7) Yukarıdaki sayılardan kaç tanesi 40 sayısına yuvarlanabilir?

- A) 1 B) 2 C) 3

8) Onlar basamaęında 8 ve birler basamaęında 3 olan sayı hangi onluęa yuvarlanır?

- A) 80 B) 70 C) 90

87 → 90

75 → 70

41 → 40

23 → 20

9) Yukarıdaki sayılar en yakın onluęa yuvarlanmıřtır. Buna göre kaç tanesi doęrudur?

- A) 2 B) 3 C) 4

10) 4 birlik ve 5 onluktan oluřan sayı hangi onluęa yuvarlanır?

- A) 50 B) 60 C) 40

11) Ařaęıdaki sayıların yanına en yakın oldukları onluklar yazılmıřtır. Hangisi yanlıřtır?

A) 42 → 40

B) 55 → 60

C) 54 → 60

©:hhocaninsinifi

12) Ařaęıdaki sayılardan hangisinin en yakın olduęu onluk 70 deęildir?

- A) 64 B) 65 C) 66

13) Ařaęıdaki sayılardan hangisi 50'ye yakındır?

- A) 43 B) 44 C) 45