



# 2.SINIFLAR

## 11.DENEME SINAVI



15 Soru

\*Bilgilendirici Metin, Belirli gün ve haftalar, Yeni Nesil Soru



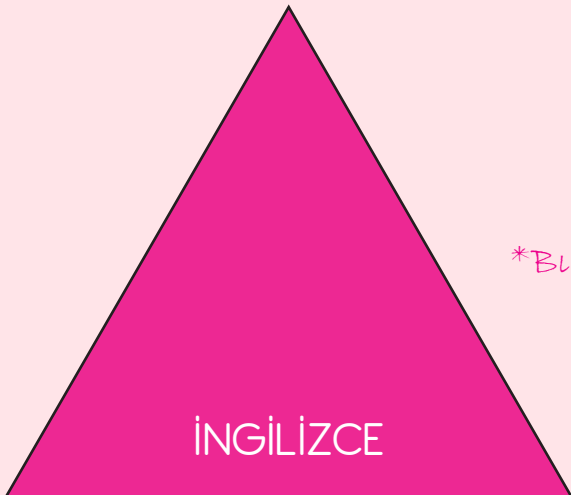
15 Soru

\*Kombinasyonel Düşünme gerektiren sorular.



10 Soru

\*Eglenceli görsellerle desteklenmiş sorular.



5 Soru

\*Bilgilendiren sorular

Hazırlayanlar;

U. Gökner  
Sınıf Öğretmeni

F.Gökner  
Dizgi ve Tasarım Öğretmeni

## HAYVANLAR ALEMİ

Merhaba çocuklar. Dün akşam televizyonda belgesel vardı. Belgeselde hayvanlar aleminden bahsediyordu. Çok değişik bilgiler öğrendim bunu sizlerle paylaşmak isterim. İlk olarak köpek balıklarından bahsedelim. Köpek balıkları renk körüdür ve vücutlarında hiç kemik bulunmaz. Ayrıca köpek balıkları hiç hastalanmazlar. Karıncalar hayvanlar arasında en çalışkan hayvandır ve 2 haftaya kadar suyun altında hayatta kalabilirler. Her insanda 1 tane kalp vardır değil mi? İşte ahtapotlarda 3 tane kalp varmış bende yeni öğrendim. Pandalar ise günün 12 saati yemek yerler ve en sevdiği yiyecek bambudur. Kar leoparları 1 seferde 15 metre zıplayabilirlermiş işte bu bilgileri belgesel izleyerek öğrendim. Sizde belgesel izleyerek bilgi sahibi olabilirsiniz...

Köpekbalığı




Kar leoparı



Panda



Ahtapot




Karıncı



1-2 ve 3.soruları metne göre cevaplayalım.

1.Hayvanlar aleminde en çalışkan hayvan hangisi olarak bilinir?



2.Hastalanmayan hayvan olarak belgeselde adı geçen hayvan aşağıdakilerden hangisidir?

- A. Köpek balığı  
B. Panda  
C. Kar leoparı



2 kalbim vardır.



En sevdiğim yiyecek çimendir.

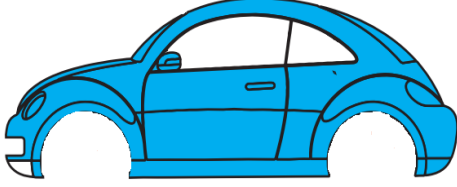


Hiç hastalanmam.

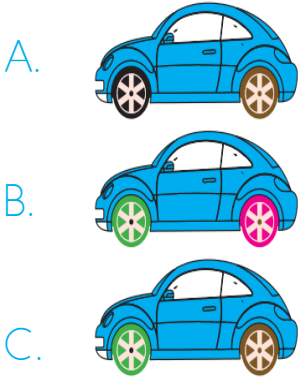
3.Yukarıdaki hayvanlar ile ilgili verilenlerden kaç tanesi doğrudur?

- A. 1  
B. 2  
C. 3





4. Yukarıdaki arabanın tekerlerini takmak isteyen Sevgi yazımı doğru olan tekerleri kullanacaktır. Buna göre oluşturduğu arabanın tekerlerinin görünümünü aşağıdakilerden hangisi olmalıdır?



5. Aşağıdaki cümlelerden hangisi karşılaştırma cümlesidir?

- A. Bu hafta havalar çok soğuk olduğu için beden dersi yapamadık.
- B. Hava bugün nasıl olacak?
- C. Bugün hava güne göre daha sıcak.

Doktor	Eş anlam
Gece	Zıt Anlam
Kırmızı	Eş Anlam
Siyah	Zıt Anlam

6. Yukarıdaki verilen kelimelerin karşılıklarına belirtilen anlamları yazıldığında tablo nasıl olur?

A. Hekim	B. Talebe
Gündüz	Sabah
Al	Beyaz
Beyaz	Kara

C. Hekim
Gündüz
Kara
Lacivert

7. Aşağıdaki cümlelerin hangisinin sonuna farklı bir noktalama işareti konulmalıdır?

- A. Sabah erkenden yola çıktık ( )
- B. Eyvah, tencereyi evde unuttum ( )
- C. Deneme sınavında 1. oldum ( )





L e o p a r

○ ○ ○ ○ ○ ○

8.Yukarıda leopar kelimesinde sırasıyla her bir harf bir daireyi göstermektedir. Daha sonra ünlü harfler ile gösterilen harflere karşılık gelen dairelerin içi boyanacaktır. Buna göre boyalı dairelerin görünümü nasıl olmalıdır?

- A. ○ ● ○ ● ○ ●
- B. ○ ● ● ○ ● ○
- C. ● ○ ● ○ ○ ●

ile	fakat	ve
çünkü	ama	için
lakin	ancak	halbuki

9.Yukarıdaki bilgi kartında tek başına anlamı olmayan kelimeler verilmiştir. Buna göre aşağıdaki cümlelerin hangisinde tek başına anlamı olmayan bir kelime kullanılmıştır?

- A. Canan acı biber ile sıcak sucuk yedi.
- B. Ceyda, kırık cama sakın dokunma.
- C. Cansu dersine ciddi ciddi çalış.

★ yarışmasında

★ girdi

★ dereceye

★ Aslı

★ resim

10.Yukarıdaki kelimelerin karşılarında yıldız renkleri verilmiştir. Bu kelimelerle anlamlı ve kurallı bir cümle oluşturulmak istenirse yıldızların renk sıralaması nasıl olmalıdır?

A. ★ ★ ★ ★ ★

B. ★ ★ ★ ★ ★

C. ★ ★ ★ ★ ★

11.Aşağıdakilerden hangisi cümle değildir?

- A. Düştüm
- B. Pazardan eve elma
- C. Bugün çok ders çalıştım.



Uğur yarın okula gidecek.

12.Yukarıdaki cümlede altı çizili sözcükler sırasıyla hangi soruların yanıtıdır?

- A. Kim ? - Nereye ? - Nasıl ?  
 B. Kim ? - Ne zaman ? - Nereye ?  
 C. Kim ? - Kaç ? -Niçin ?

TR 59

Tekirdağ

TR 67

Zonguldak

TR 18

Çankırı

13.Yukarıda verilen plakaların hangi şehirlere ait olduğu verilmiştir. Buna göre bu plaka kodları şehir isimleriyle alfabetik olarak sıralanırsa sıralama nasıl olur?

- A. 18 - 59 - 67  
 B. 67 - 59 - 18  
 C. 59 - 18 - 67

Güneşli günler bitti.  
 Leylekler göçtü gitti.  
 Sık sık yağıyor kar.  
 Sokaklar bembeyaz.

14.Yukarıdaki şiirin başlığı ne olabilir ?

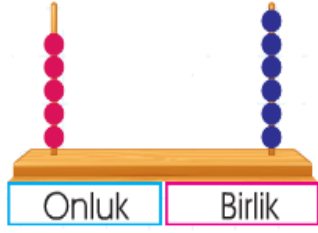
- A. İlkbahar  
 B. Kış  
 C. Sonbahar

Ali okula geldiğinde yüzü şişmişti.

15. "Yüz" kelimesi aşağıdaki cümlelerin hangisinde yukarıda verilen cümledeki anlamı ile kullanılmıştır?

- A. Yarın arkadaşlarla yüzmeye gideceğiz.  
 B. Babam markette yüz lira harcadı.  
 C. Utanınca yüzü kızardı.

TÜRKÇE TESTİ BİTTİ MATEMATİK TESTİNE GEÇİNİZ...



1.Yukarıdaki abaküste verilen sayı ile ilgili aşağıdakilerden hangisi yanlıştır?

- A. 5 desteden 6 fazladır.
- B. 5 birlik + 6 onluktan oluşmuştur.
- C. En yakın onluğu 60'tır.

2.72'den başlayarak geriye doğru 4'er ritmik sayma yaparken 6. sırada söylediğimiz sayı kaç olur? (72 dahil)

- A. 56
- B. 52
- C. 48

38 küçüktür 32	9=9
52 küçüktür 54	45 küçüktür 52

3.Yukarıdaki tabloda doğru olanlar işaretlenirse ortaya çıkacak şeklin son görüntüsü nasıl olur?

- A. 

✓	✓
	✓
- B. 

	✓
	✓
- C. 

	✓
✓	✓



4.Yukarıda yarış arabalarının pisti kaç saniyede bitirdikleri verilmiştir. Bu yarışta bitirme süreleri 30'a yuvarlanan yarışçılar bir sonraki yarışa girmeye hak kazanacaktır. Buna göre bitirme süreleri 30'a yuvarlanan sayıların toplamı kaçtır?

- A. 72
- B. 95
- C. 87

..... 3 desteye yuvarlanan en büyük sayı ?

..... 4 birlik 3 onluktan oluşan sayı ?

.....  $73-14 = ?$

5.Yukarıdaki şekillerde verilen işlem sonuçlarına göre aşağıdakilerden hangisi yanlıştır?

A. = 25      B. = 34

C. = 59



1	$75 - 26$
2	$60 - 18$
3	$43 + 19$

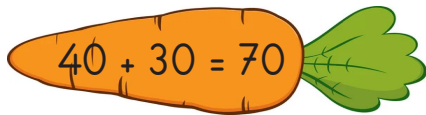
6.Yukarıdaki tabloda verilen işlemler ve sonuçlarına göre aşağıdakilerden hangisi söylenemez?

- A. Üçüncü işlem sonucu 56'dır.  
 B. Birinci işlemin sonucu ikinci işlemin sonucundan büyüktür.  
 C. İkinci işlemin sonucu 42'dir.

**İsmail, iki toplananı olan bir toplama işleminin sonucunu 80 buluyor.**

7.Toplananlardan biri 57 ise diğer toplanan kaçtır?

- A. 23  
 B. 27  
 C. 33



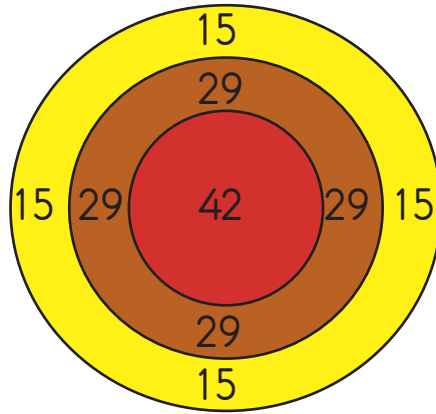
8.Havuçtaki işlem hangi işlemin tahmini yapılışıdır?

- A.  $\begin{array}{r} 32 \\ + 28 \\ \hline \end{array}$       B.  $\begin{array}{r} 38 \\ + 23 \\ \hline \end{array}$   
 C.  $\begin{array}{r} 35 \\ + 27 \\ \hline \end{array}$

**Bir çiftlikte 18 koyun, 29 inek ve ineklerden 8 fazla keçi vardır.**

9.Yukarıda bir ahırda bulunan hayvan sayıları ile ilgili bilgi verilmiştir. Buna göre toplam hayvan sayısı kaçtır?

- A. 54  
 B. 55  
 C. 84



- = 15  
 = 29  
 = 42

10. Uğur ve Funda dart oyunu oynamak istemektedir. Kural olarak herkesin 2 atış hakkı vardır. 2 atışın sonunda attıkları sayıları toplayacaklardır. Uğur **kırmızı (42)** ve **sarı (15)** atarken, Funda **kırmızı (42)** ve **kahverengiye (29)** atmıştır. Buna göre Funda ve Uğur'un attıkları sayıların farkı kaçtır?

- A. 12      B. 13      C. 14



1	$30 - 20 = ?$
2	$40 - 20 = ?$
3	$80 - 50 = ?$
4	$50 - 30 = ?$

11.Yukarıdaki işlemlerden hangilerinin sonuçları eşittir?

- A. 1 ve 4  
B. 2 ve 4  
C. 1 ve 3

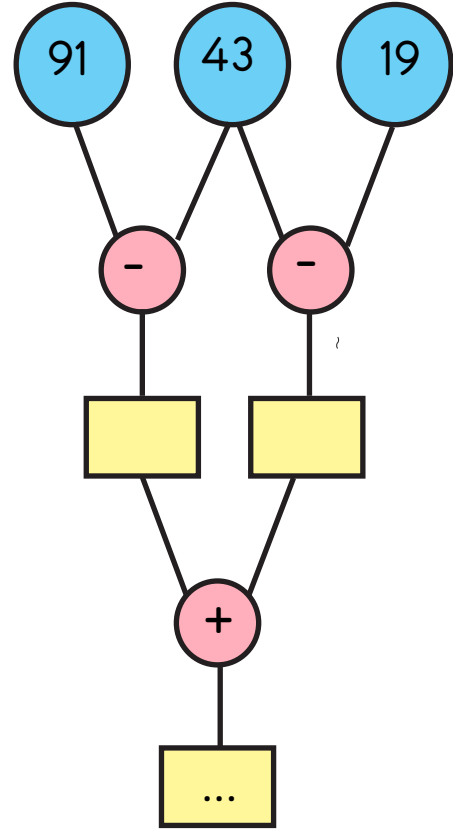
12.Ayşe 9 yaşındadır. Ablası Ayşe'den 4 yaş büyüktür. Buna göre Ayşe ve ablasının yaşları toplamı kaçtır?

- A. 18  
B. 20  
C. 22

11 - 14 - 17 - 21 - 24 - 27

13.Yukarıda belirli bir örüntüye göre dizilen sayılar verilmiştir. Buna göre örüntüyü bozan sayı kaçtır?

- A. 14  
B. 17  
C. 21



14.Yukarıdaki şemaya göre en alttaki kutucuğa hangi sayı gelmelidir?

- A. 62  
B. 72  
C. 82


- \*2 destenin 5 fazlası = 25  
\*3 düzinenin 4 fazlası = 40  
\*4 destenin 3 fazlası = 51

15.Yukarıda deste - düzine sonuçları verilen sayıların kaç tanesi doğrudur?

- A. 1  
B. 2  
C. 3



Ela



1 Kitap okumaktan hoşlanmak.

2 Uzun boylu olmak.

3 Ela gözlü olmak.

1.Yukarıda Ela fiziksel-kişisel özelliklerinden bahsetmiştir. Buna göre Ela hangi kutuda kişisel özelliklerinden bahsetmiştir?

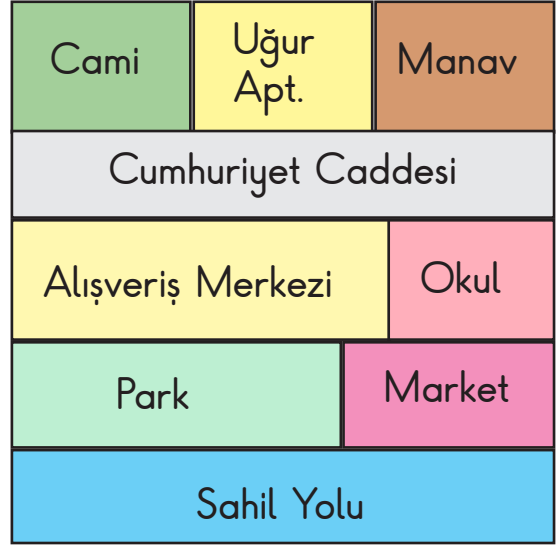
- A. 1
- B. 2
- C. 3

2.Yerli malı haftası için sınıfı sülemek süslemek isteyen 2/A sınıfı öğrencileri öğretmeniyle görüşmüşler ve hep birlikte sınıfın süslenmesi kararını kim vermiştir?

- A. Sınıf başkanı
- B. Tüm sınıf
- C. Öğretmen

3.Grup çalışmaları ile ilgili aşağıdakilerden hangisi yanlıştır?

- A. Görev almak için gönüllü olmalıyız.
- B. Üzerimize aldığımız görevleri arkadaşlarımıza yaptırmalıyız.
- C. Dürüst olmalı, hatalarımızı kabul etmeliyiz.



4.Yukarıdaki krokiye göre aşağıdakilerden hangisi yanlıştır?

- A. Cami ile Alışveriş merkezinin arasında Cumhuriyet Caddesi vardır.
- B. Manav Sahil yolu ile Cumhuriyet Caddesi arasındadır.
- C. Okul marketin karşısındadır.




5. Bir postacı postanın hangi adrese ait olduğunu üzerindeki adresten bulabilir. Buna göre adres bilgilerimiz arasında hangisi yer almaz?

- A. Mahalle / Sokak adı.
- B. TC kimlik numaramız
- C. İlçe / il adı.

- 1- Yakın akrabalarımızdan birinin hastalığı ya da üzüntüsü hepimizi üzer.
- 2- Babamızın erkek kardeşine dayı deriz.
- 3- Annemin kız kardeşine teyze deriz.
- 4- Babamın kız kardeşine hala derim.

6.Yukarıdaki bilgilerden kaç tanesi doğrudur?

- A. 2
- B. 3
- C. 4



Sinan kaynakları tutumlu kullanmaya özen gösterir.

7.Buna göre Sinan'ın aşağıdakilerden hangisini yapması beklenmez?

- A. Tuvaletten çıkarken lambayı söndürür.
- B. Dişlerini fırçalarken suyu açık bırakır.
- C. Hava sıcaksa kombiyi kapatır.

8.Aşağıdaki öğrencilerden hangisinin çevreye karşı duyarlı olduğu söylenemez?

- A. Dün sınıfta kalemimi evde unutan Der ya'ya fazla kalemlerimden verdim.
- B. Resim dersinde benim boyalarımı kullanmak isteyen Murat'a çok sinirlendim.
- C. Bu sabah servisi kaçıran Zehra'ya bizim arabayla gelebileceğini söyledim.

9.Planlı ve düzenli bir öğrenci için aşağıdakilerden hangisi söylenemez?

- A. Ödevlerini günü gününe yapar.
- B. Akşamları erken yatar.
- C. Yetiştiremediği ödevlerini annesine yaptırır.

#### İSTEKLER

- 1-Top
- 2-Oyuncak
- 3-Ekmek
- 4-Pasta

#### İHTİYAÇLAR

- 1-Aykkabı
- 2-Elbise
- 3-Kalem
- 4-Uzaktan kumandalı araba

10.Yukarıdaki istek ve ihtiyaçlarda yanlış yazılan varlıklar aşağıdakilerden hangisidir?

- A. Top-Elbise
- B. Pasta-Kalem
- C. Ekmek-Araba

Teacher: ..... left.

Student: Okey.

1.Yukarıdakicümleyi tamamlayn ifade aşağıdakilerden hangisidir?

- A. open
- B. Turn
- C. cut

- 1= One
- 2= Two
- 3= Seven
- 4= Four
- 5= Five

2.Yukarıda 1'den 5'e kadar sayıları sa-  
yan Ela hangi sayıyı yanlış söylemiştir?

- A. 3
- B. 4
- C. 5



Lisa: Thank you.

Mark: .....

3.Diyaloğu tamamlayan ifade aşağı-  
dakilerden hangisidir?

- A. Excuse me.
- B. You are welcome.
- C. I'm sorry.

4.Aşağıdaki eşleştirmelerden hangisi  
yanlıştır?

- A. Eraser - Silgi
- B. Pencil - Kalem
- C. Sharpaner - Kalemlik



5.Yukarıdaki görsele uygun ifade aşağı-  
dakilerden hangisidir?

- A. Stand up.
- B. Turn left.
- C. Sit down.



# 2.SINIFLAR DENEME SINAVI CEVAP KAGIDI

ADI - SOYADI (Adı ve Soyadı arasında bir kare boşluk bırakınız.)																												
A	A	A	A	A	A	A	A	A	A	A	A	A	A	A	A	A	A	A	A	A	A	A	A	A	A	A	A	
B	B	B	B	B	B	B	B	B	B	B	B	B	B	B	B	B	B	B	B	B	B	B	B	B	B	B	B	B
C	C	C	C	C	C	C	C	C	C	C	C	C	C	C	C	C	C	C	C	C	C	C	C	C	C	C	C	
D	D	D	D	D	D	D	D	D	D	D	D	D	D	D	D	D	D	D	D	D	D	D	D	D	D	D	D	
E	E	E	E	E	E	E	E	E	E	E	E	E	E	E	E	E	E	E	E	E	E	E	E	E	E	E	E	
F	F	F	F	F	F	F	F	F	F	F	F	F	F	F	F	F	F	F	F	F	F	F	F	F	F	F	F	
G	G	G	G	G	G	G	G	G	G	G	G	G	G	G	G	G	G	G	G	G	G	G	G	G	G	G	G	
H	H	H	H	H	H	H	H	H	H	H	H	H	H	H	H	H	H	H	H	H	H	H	H	H	H	H	H	
I	I	I	I	I	I	I	I	I	I	I	I	I	I	I	I	I	I	I	I	I	I	I	I	I	I	I	I	
J	J	J	J	J	J	J	J	J	J	J	J	J	J	J	J	J	J	J	J	J	J	J	J	J	J	J	J	
K	K	K	K	K	K	K	K	K	K	K	K	K	K	K	K	K	K	K	K	K	K	K	K	K	K	K	K	
L	L	L	L	L	L	L	L	L	L	L	L	L	L	L	L	L	L	L	L	L	L	L	L	L	L	L	L	
M	M	M	M	M	M	M	M	M	M	M	M	M	M	M	M	M	M	M	M	M	M	M	M	M	M	M	M	
N	N	N	N	N	N	N	N	N	N	N	N	N	N	N	N	N	N	N	N	N	N	N	N	N	N	N	N	
O	O	O	O	O	O	O	O	O	O	O	O	O	O	O	O	O	O	O	O	O	O	O	O	O	O	O	O	
P	P	P	P	P	P	P	P	P	P	P	P	P	P	P	P	P	P	P	P	P	P	P	P	P	P	P	P	
R	R	R	R	R	R	R	R	R	R	R	R	R	R	R	R	R	R	R	R	R	R	R	R	R	R	R	R	
S	S	S	S	S	S	S	S	S	S	S	S	S	S	S	S	S	S	S	S	S	S	S	S	S	S	S	S	
T	T	T	T	T	T	T	T	T	T	T	T	T	T	T	T	T	T	T	T	T	T	T	T	T	T	T	T	
U	U	U	U	U	U	U	U	U	U	U	U	U	U	U	U	U	U	U	U	U	U	U	U	U	U	U	U	
V	V	V	V	V	V	V	V	V	V	V	V	V	V	V	V	V	V	V	V	V	V	V	V	V	V	V	V	
Y	Y	Y	Y	Y	Y	Y	Y	Y	Y	Y	Y	Y	Y	Y	Y	Y	Y	Y	Y	Y	Y	Y	Y	Y	Y	Y	Y	
Z	Z	Z	Z	Z	Z	Z	Z	Z	Z	Z	Z	Z	Z	Z	Z	Z	Z	Z	Z	Z	Z	Z	Z	Z	Z	Z	Z	

**KURUM VE ÖĞRENCİ BİLGİLERİ**

ADI-SOYADI: .....

SINIF / ŞUBE: .....

OKUL ADI: .....

İli: .....

İLÇESİ: .....

KİTAPÇIK TÜRÜ  A  B

**ÖĞRENCİ NO**

0	0	0	0
1	1	1	1
2	2	2	2
3	3	3	3
4	4	4	4
5	5	5	5
6	6	6	6
7	7	7	7
8	8	8	8
9	9	9	9

SINIF	ŞUBE
①	(A)
②	(B)
③	(C)
④	(D)
	(E)
	(F)
	(G)
	(H)
	(I)
	(J)

CEVAPLAR			
TÜRKÇE	MATEMATİK	HAYAT BİLGİSİ	İNGİLİZCE
1 (A)(B)(C)	1 (A)(B)(C)	1 (A)(B)(C)	1 (A)(B)(C)
2 (A)(B)(C)	2 (A)(B)(C)	2 (A)(B)(C)	2 (A)(B)(C)
3 (A)(B)(C)	3 (A)(B)(C)	3 (A)(B)(C)	3 (A)(B)(C)
4 (A)(B)(C)	4 (A)(B)(C)	4 (A)(B)(C)	4 (A)(B)(C)
5 (A)(B)(C)	5 (A)(B)(C)	5 (A)(B)(C)	5 (A)(B)(C)
6 (A)(B)(C)	6 (A)(B)(C)	6 (A)(B)(C)	6 (A)(B)(C)
7 (A)(B)(C)	7 (A)(B)(C)	7 (A)(B)(C)	7 (A)(B)(C)
8 (A)(B)(C)	8 (A)(B)(C)	8 (A)(B)(C)	8 (A)(B)(C)
9 (A)(B)(C)	9 (A)(B)(C)	9 (A)(B)(C)	9 (A)(B)(C)
10 (A)(B)(C)	10 (A)(B)(C)	10 (A)(B)(C)	10 (A)(B)(C)
11 (A)(B)(C)	11 (A)(B)(C)	11 (A)(B)(C)	11 (A)(B)(C)
12 (A)(B)(C)	12 (A)(B)(C)	12 (A)(B)(C)	12 (A)(B)(C)
13 (A)(B)(C)	13 (A)(B)(C)	13 (A)(B)(C)	13 (A)(B)(C)
14 (A)(B)(C)	14 (A)(B)(C)	14 (A)(B)(C)	14 (A)(B)(C)
15 (A)(B)(C)	15 (A)(B)(C)	15 (A)(B)(C)	15 (A)(B)(C)
16 (A)(B)(C)	16 (A)(B)(C)	16 (A)(B)(C)	16 (A)(B)(C)
17 (A)(B)(C)	17 (A)(B)(C)	17 (A)(B)(C)	17 (A)(B)(C)
18 (A)(B)(C)	18 (A)(B)(C)	18 (A)(B)(C)	18 (A)(B)(C)
19 (A)(B)(C)	19 (A)(B)(C)	19 (A)(B)(C)	19 (A)(B)(C)
20 (A)(B)(C)	20 (A)(B)(C)	20 (A)(B)(C)	20 (A)(B)(C)

**ÖRNEK KODLAMA**

DOĞRU

YANLIŞ

YANLIŞ

YANLIŞ

## 2.SINIFLAR 11 . DENEME SINAVI CEVAP ANAHTARI

### TÜRKÇE

- |      |       |
|------|-------|
| 1) B | 8) B  |
| 2) A | 9) A  |
| 3) A | 10) B |
| 4) B | 11) B |
| 5) C | 12) B |
| 6) A | 13) A |
| 7) B | 14) B |
|      | 15) C |

### MATEMATİK

- |      |       |
|------|-------|
| 1) B | 8) C  |
| 2) C | 9) C  |
| 3) C | 10) C |
| 4) B | 11) B |
| 5) A | 12) C |
| 6) A | 13) C |
| 7) A | 14) B |
|      | 15) B |

### HAYAT BİLGİSİ

- |      |       |
|------|-------|
| 1) A | 7) B  |
| 2) B | 8) B  |
| 3) B | 9) C  |
| 4) B | 10) C |
| 5) B |       |
| 6) B |       |

### İNGİLİZCE

- |      |
|------|
| 1) B |
| 2) A |
| 3) B |
| 4) C |
| 5) C |

