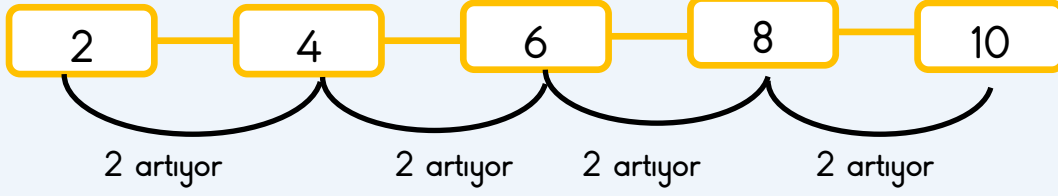
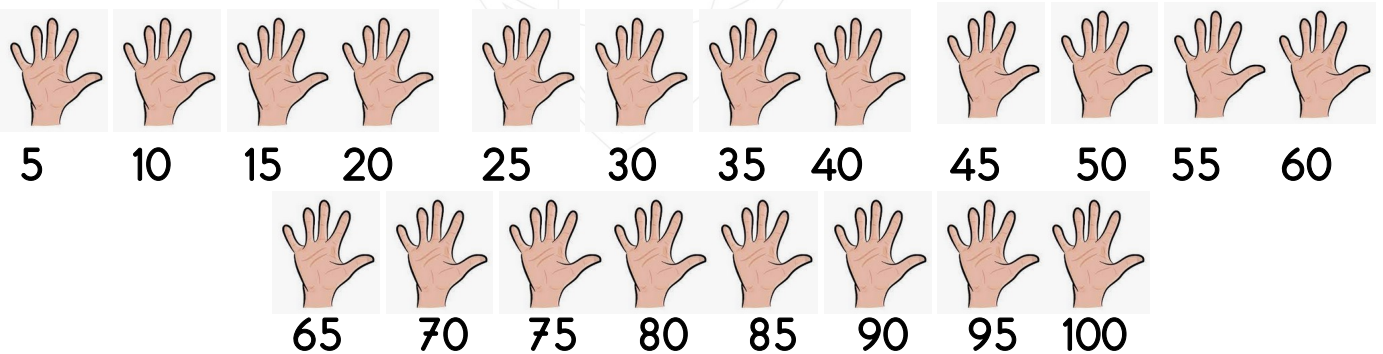
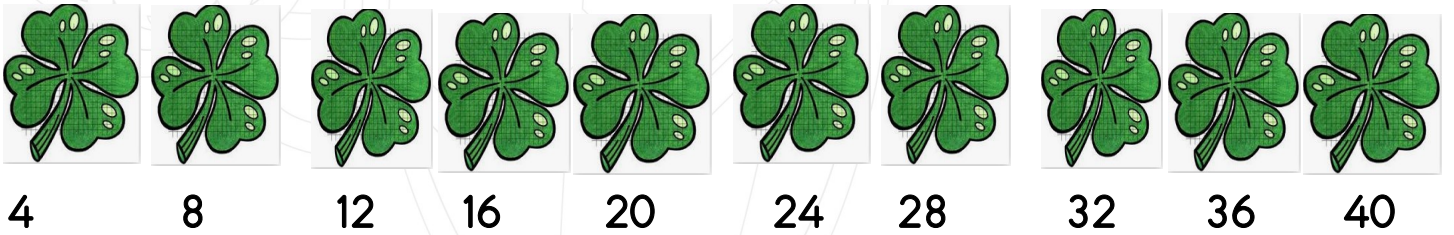

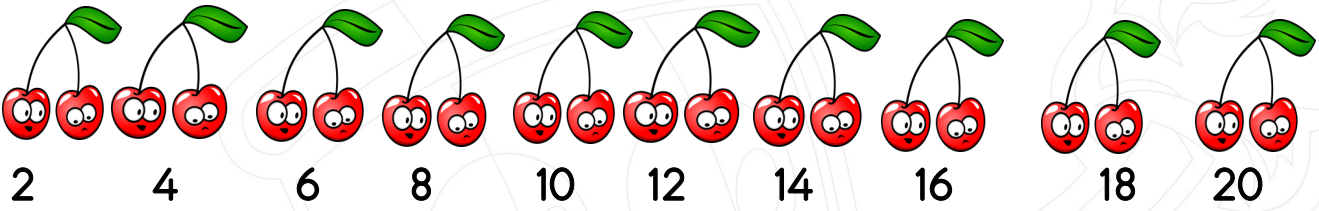


Sayıların belirli bir kurala göre dizilmesine ,sayı örüntüsü denir.



Instagram: hhocaninsinifi



Aşağıda verilen ritmik saymayı tamamlayalım.

2								20
								60
								100

Aşağıda verilen sayılardan başlayarak ileriye doğru ikişerli sayma yapınız.

38 ○ ○ ○ ○

26 ○ ○ ○ ○

42 ○ ○ ○ ○

64 ○ ○ ○ ○

Aşağıda verilen sayılardan başlayarak geriye doğru ikişerli sayma yapınız.

38 ○ ○ ○ ○

26 ○ ○ ○ ○

42 ○ ○ ○ ○

64 ○ ○ ○ ○

Aşağıda verilen ritmik saymayı tamamlayalım.



3							
							30

Aşağıda verilen sayılardan başlayarak ileriye doğru üçerli sayma yapınız.

18 ○ ○ ○ ○

9 ○ ○ ○ ○

21 ○ ○ ○ ○

30 ○ ○ ○ ○

Aşağıda verilen sayılardan başlayarak geriye doğru üçerli sayma yapınız.

18 ○ ○ ○ ○

33 ○ ○ ○ ○

18 ○ ○ ○ ○

54 ○ ○ ○ ○

Aşağıda verilen ritmik saymayı tamamlayalım.

4				
				40

Aşağıda verilen sayılardan başlayarak ileriye doğru dörderli sayma yapınız.

24 ○ ○ ○ ○

8 ○ ○ ○ ○

56 ○ ○ ○ ○

36 ○ ○ ○ ○

Aşağıda verilen sayılardan başlayarak geriye doğru dörderli sayma yapınız.

28 ○ ○ ○ ○

40 ○ ○ ○ ○

20 ○ ○ ○ ○

36 ○ ○ ○ ○

Aşağıda verilen ritmik saymayı

5				
				100

Aşağıda verilen sayılardan başlayarak ileriye doğru beşerli sayma yapınız.

25 ○ ○ ○ ○

65 ○ ○ ○ ○

35 ○ ○ ○ ○

80 ○ ○ ○ ○

Aşağıda verilen sayılardan başlayarak geriye doğru beşerli sayma yapınız.

30 ○ ○ ○ ○

40 ○ ○ ○ ○

70 ○ ○ ○ ○

35 ○ ○ ○ ○

 :hhocaninsinifi

Aşağıda verilen soruları cevaplayarak ritmik saymayı kavrayalım.

<p>1) 20'den başlayıp ileriye doğru dörder ritmik saydığımızda söylediğimiz 5.sayı kaçtır?(20 dahil)</p>	<p>2) 35'den başlayıp geriye doğru beşer ritmik saydığımızda söylediğimiz 7.sayı kaçtır? (35 dahil)</p>
<p>3) 27 den başlayıp geriye doğru üçer ritmik saydığımızda söylediğimiz 4.sayı kaçtır?(27 dahil)</p>	<p>4) 32'den başlayıp geriye doğru dörder ritmik saydığımızda söylediğimiz 6.sayı kaçtır?(32 dahil)</p>
<p>5) 18 den başlayıp ileriye doğru ikişer ritmik saydığımızda söylediğimiz 4.sayı kaçtır?(18 dahil)</p>	<p>6) 40 dan başlayıp geriye doğru dörder ritmik saydığımızda söylediğimiz 3.sayı kaçtır?(40 dahil)</p>
<p>7) 45 den başlayıp geriye doğru beşer ritmik saydığımızda söylediğimiz 6.sayı kaçtır? (45 dahil)</p>	<p>8) 12' den başlayıp ileriye doğru üçer ritmik saydığımızda söylediğimiz 5.sayı kaçtır? (12 dahil)</p>
<p>9) 16'dan başlayıp geriye doğru ikişer saydığımızda söylediğimiz 5.sayı kaçtır? (16 dahil)</p>	<p>10) 30'dan başlayıp geriye doğru üçer ritmik saydığımızda söylediğimiz 10.sayı kaçtır? (30 dahil)</p>
<p>11) 50'den başlayıp ileriye doğru onar saydığımızda söylediğimiz 3.sayı kaçtır?(50 dahil)</p>	<p>12) 55'den başlayıp ileriye doğru beşer ritmik saydığımızda söylediğimiz 6.sayı kaçtır?(55 dahil)</p>

:hhocaninsinifi

Aşağıda verilen çoktan seçmeli soruları cevaplayalım.



1) Yukarıda verilen ritmik sayma ile ilgili aşağıda verilen bilgilerden hangisi yanlıştır?

- A) Ritmik sayı beşerli artmaktadır.
- B) Ritmik saymanın 3. adımındaki sayı 15'tir.
- C) Ritmik sayma üçer üçer artmaktadır.



2) Yukarıdaki ritmik saymada kuralı bozan sayı hangisidir?

- A) 12
- B) 17
- C) 20



3) Yukarıda verilen ritmik sayma ile ilgili aşağıda verilenlerden hangisi yanlıştır?

- A) Sayılar beşer azalmaktadır.
- B) Sayılar beşer artmaktadır.
- C) Örüntünün 3. adımındaki sayı 15'dir

4) Hamit 2'den başlayıp ileriye doğru ikişer ritmik sayıyor. Murat hangi sayıyı söylemez?

- A) 10
- B) 18
- C) 13

5) 75 den başlayarak geriye doğru beşer ritmik sayma yaptığımızda söylediğimiz 5. sayı kaçtır? (75 dahil)

- A) 60
- B) 55
- C) 50



6) Aşağıda verilen ritmik saymalardan hangisi geriye doğru dörder ritmik saymadır?

- A) 30-27-24-21-18-15-12-9-6-3
- B) 40-36-32-28-24-20-16-12-8-4
- C) 50-45-40-35-30-25-20-15-10-5

21 - 24 -.....- 30 - 33 - 36- ...- 42

7) Yukarıda ritmik saymada verilmeyen sayılar hangileridir?

A)27-33

B)27-39

C)30-39

8) Üçer ve dörder ritmik sayma yaptığımızda aşağıdaki sayılardan hangisini her ikisinde de söyleriz?

A) 12

B) 15

C) 18

9) 15' den başlayıp ileriye doğru üçer ritmik saydığımızda söylediğimiz 5.sayı kaçtır? (15 dahil)

A) 24

B) 27

C) 30



24 lira -.....-.....

9) Ayşe 3 kardeştir babası Ayşe'ye 24 lira harçlık vermiştir. Diğer kardeşlerine de Ayşe'ye verdiği paranın 4 lira eksikliğini vermiştir. Babası Ayşe'nin ortanca kardeşine kaç lira harçlık vermiştir?

A) 20

B) 16

C) 12

45 50 60 65 70

75 80 90 95 100

10) Yukarıda yer alan ritmik saymada noktalı yerlere gelmesi gereken sayılar hangileridir?

A) 90 70

B) 55 85

C) 90 55