

# MATEMATİK

1- Aşağıdaki sınıf gezisinde Cansu ile Beyza'nın arasında kalan çocuk kaçınıcı sıradadır?

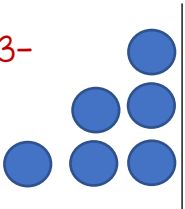


- a) 1.                      b) 2.                      c) 3.

2- 5 birlik 3 onluktan oluşan sayının kaç fazlası 50 eder?

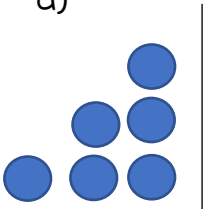
- a) 15                      b) 3                      c) 25

3-

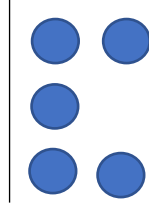


Yukarıda verilen şeklin simetriği aşağıdakilerden hangisidir?


a)



b)



c)



4- Aşağıdaki problemlerden hangisini diğerlerinden farklı bir işlem yaparak çözmemiz gerekir?

- a) Ece'nin 15 kalemı vardı. Kalemlerinden 7 tanesi kayboldu. Ece'nin kaç kalemı kaldı?
- b) Can 18 yaşındadır. Kardeşi ondan 6 yaş küçük ise Can'ın kardeşi kaç yaşındadır?
- c) Sedef kitabından önce 21 sayfa, daha sonra 32 sayfa okudu. Sedef kitabının kaç sayfasını okumuştur?

5-




Yukarıdaki damacana altı sürahi su almaktadır. İki damacanaı doldurmak için kaç sürahi suya ihtiyaç vardır?

Hangisi öğretmenin sorduğu problemin doğru cevabını vermek için uygun bir işlem değildir?

- a)  $6 + 6 = 12$   
b)  $2 \times 6 = 12$   
c)  $2 + 10 = 12$

6- Sinan kareli kâğıdın üzerinde bazı noktalara semboller yerleştirmiştir.

Sinan'ın sembollerin yerlerini belirtirken kurduğu cümlelerden hangisi **yanlış** bilgi vermektedir?



- a) Kalbin üç birim altında, bir birim sağında bulut vardır.  
b) Bulutun iki birim sağında gülen yüz vardır.  
c) Kalbin iki birim yukarısında, iki birim sağında yıldız vardır.

7- İki düzine elmanın 15 tanesi bizim sınıfımızdaki öğrencilere, geri kalanı ise diğer sınıftakilere paylaştırıldı. Diğer sınıfa kaç tane elma gitmiştir?

- a) 5      b) 9      c) 39

8- 7 birlik 3 onluktan oluşan sayı aşağıdaki onluklardan hangisine yuvarlanır?



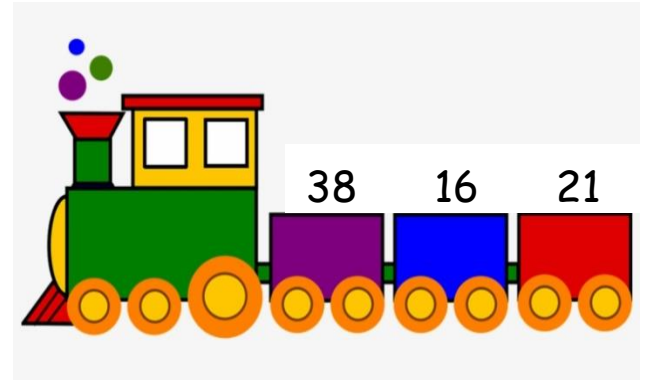
9-

$$5+5+5+5+5+5+5$$

Yukarıdaki işlemi kısa yoldan yapmak için hangi işlemi kullanırsınız?

- a) Çarpma  
b) Çıkarma  
c) Toplama

10-



Yukarıdaki trenin vagonlarında taşıdığı sayıların **tahmini toplamı** kaçtır?

- a) 80      b) 70      c) 75









11-

Cemil Bey kendi ağırlığına eşit miktarda altın kazanmıştır. Cemil Bey'in kilosu iki basamaklı en büyük sayıdan bir deste

eksik olduğuna göre ? olan yere kaç yazılmalıdır?

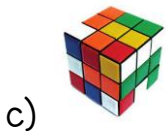
- a) 99      b) 87      c) 89

12- 5'in 7 katı =   
2 kere 8 =   
3 x 4 = 

Buna göre,  
 +  +  yandaki işlemin sonucu kaçtır?

- a) 63      b) 51      c) 35

13- Aşağıdaki nesnelere hangisinin kare şeklinde yüzeyi vardır?



14- Yukarıdaki örüntüye göre boşluğa gelecek harf aşağıdaki kelimelerden hangisinde yoktur?

- a) gözlem  
b) pekmez  
c) sepet

Üç yıl sonra 10 yaşında olacağım.



15- Arda ile Selin ikiz kardeşlerdir. Arda'nın verdiği bilgiye göre Arda ve Selin'in bugünkü yaşları toplamı kaçtır?

- a) 20      b) 14      c) 6

MATEMATİK TESTİ BİTMİŞTİR.