

**BÜYÜK ÖDÜLLÜ**

**SON SINAV!**

**1,2,3 ve 4.Sınıflara  
Türkiye Geneli Online Deneme Sınavı**

**Başlangıç Tarihi: 11 Haziran 10.00**

**Bitiş Tarihi: 15 Haziran 22.00**

**ÖDÜL: 4 Adet Bisiklet**

**Ücretsiz Üye Ol!  
Denemeye Katıl!**

[www.ilkokulluyum.com](http://www.ilkokulluyum.com)

**Not: Deneme sınavımız, sınav bitiş tarihinden itibaren PDF olarak indirilebilecektir.  
Sınav sonuçları Kazanım Analizli Karne olarak açıklanacaktır.**



## ALİ BABA VE KIRK HARAMİLER



Evvel zaman içinde, Pers kentinde iki oğlu olan bir halı tüccarı yaşarmış. Oğullarından birinin adı Kasım, diğerrinin adı Ali Baba'yımış. Babalarının ölümünden sonra açgözlü Kasım, saf Ali Baba'yı kandırarak babasının işini devralmış. Ali Baba ise o kadar çok fakirmiş ki eşile çocuklarına zor bakıyor, ormandan odun keserek geçimini sağlıyormuş.

Günün birinde Ali Baba, ormanda odun keserken birçok atın dörtnala koştuğunu görmüş. Korktuğu için bir ağacın arkasına gizlenmiş. Atlarında çuvallar taşıyan tam kırk harami gelmiş. Büyük bir kayanın yanında durmuşlar. Hırsızların lideri

iri kayanın önünde durarak: "Açıl susam açıl!" deyince kaya birden açılmış. Kayanın arkasında bir mağara belirmiş. Mağaranın içerisi altın, zümrüt ve elmasla doluymuş. Haramiler çaldıkları malları mağaraya bırakıp çıkmışlar. Ali Baba gördüklerine inanamamış. Hırsızlar uzaklaştıktan sonra mağaranın önüne gelmiş ve "Açıl susam açıl!" demiş. Kapı açılmış ve Ali Baba mağaraya girmiş. Sevinçle orada bulunan bir çuvala taşıyabileceği kadar altın doldurarak eve götürmüş. Karısı o kadar çok altını görünce çok şaşırılmış. Ali Baba eşine "Çok fazla altın var, sayamayız. Kardeşim Kasım'ın evine git ve tartıyı getir, tartalım." demiş. Eşi koşarak Kasım'ın evine gitmiş ve teraziyi istemiş. Kasım'ın karısı "Teraziyle ne tartacaksınız?" diye sormuş. Ali Baba'nın karısı ise "Hiç, sadece biraz tahıl." demiş. Kasım'ın eşi çok kurnaz bir kadınmış. Fakir Ali Baba'nın o kadar çok tahılı olamayacağını düşünerek, terazinin altına biraz balmumu sürmüş ve öyle vermiş. Altınlar tartılmış ve terazi geri verilmiş. Kasım'ın eşi teraziye yapışan altını görünce, hemen Kasım'a haber vermiş. Kasım "Demek Ali Baba'nın altınları var. O altınları nereden bulduğunu mutlaka öğrenmem lazım." demiş. Hemen Ali Baba'nın evine koşmuş. Bir şekilde mağaranın yerini ve sihirli sözleri öğrenmeyi başarmış. Kasım mağaranın içerisine girmiş. Fakat tam işini bitirip çıkacakken kırk haramiler mağaraya geri dönmüşler. Kasım'ı yakalamışlar. Mağaranın yerini başkalarının da bilebileceğini düşünmüşler. Şehre birkaç arkadaşlarını gönderip araştırmışlar. Ali Baba'nın izini bulmuşlar. Gündüz tek başına bir şey yapamayacağını düşünen harami, Ali Baba'nın evinin kapısına boyayla bir çarpı atmış. Amacı gece arkadaşlarıyla işaretlediği evi bularak Ali Baba'yı yakalamakmış.

Ama evin genç hizmetçisi çok akıllı bir kızmış. Kapıdaki işaretten şüphelenmiş. Mahalledeki tüm evlerin kapısına aynı işaretten koymuş. Gece gelen haramiler gördükleri karşısında şaşırıp kalmışlar. Tüm evlerin kapısı işaretliymiş. Ali Baba'yı bulamadan geri dönmek zorunda kalmışlar.

*Binbir Gece Masalları (Kısaltılmıştır)*



1- Masalda geçen iki kardeşin isimleri neymiş?

2- Mağaranın kapısını açan sihirli söz neymiş?

3- Ali Baba mağaraya girince ne yapmış?

4- Kasım'ın eşi, teraziye neden bal mumu sürmüş?

5- Haramiler niçin kapıya çarpı işareti koymuş?

6- Haramiler, Ali Baba'yı neden bulamamışlar?

❖ Aşağıda verilen bilgiyi okuyunuz ve şemayı inceleyiniz. Boşluklara uygun örnekler yazınız.

**Bilgi:** Sıfatlar ikiye ayrılır.

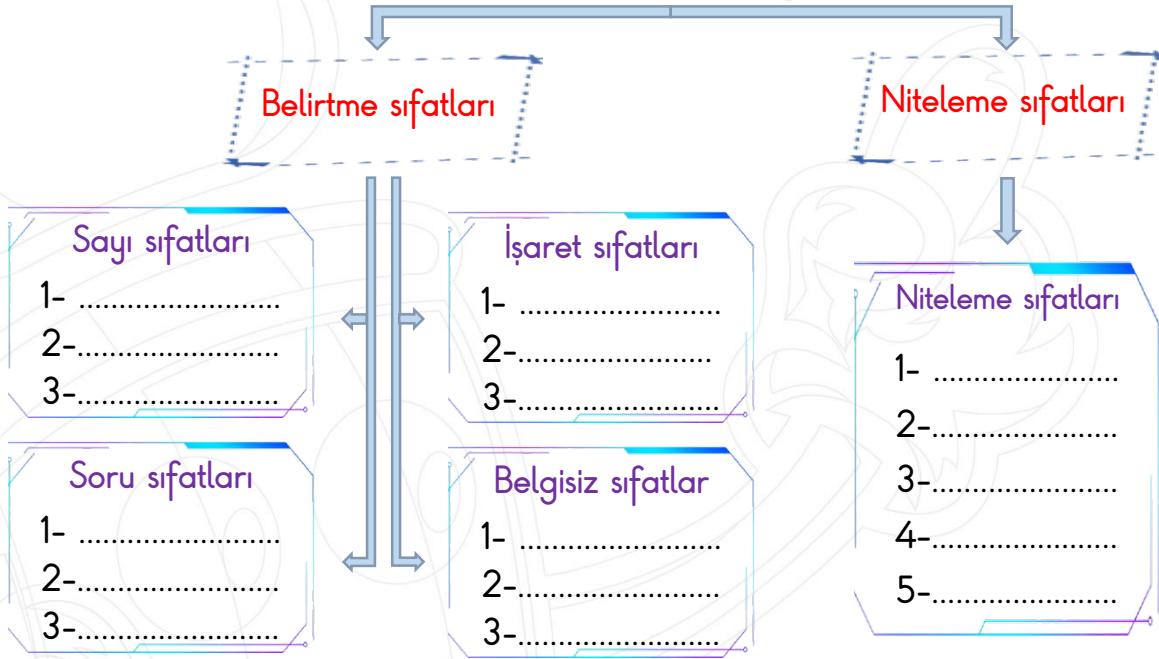
**Belirtme sıfatları:**

Sayı bildirir. (İki elma)  
Soru sorar. (Kaç armut)  
İşaret eder. (Bu kedi)  
Sayısı belli olmayan kelimelerle bildirir. (Birkaç kişi)

**Niteleme sıfatları:**

Şekil bildirir. (Kare masa)  
Renk bildirir. (Mor çiçek)  
Durum bildirir. (Eski ev)

**Not:** Belirtme sıfatları kendi içerisinde gruplara ayrılır ama niteleme sıfatları ayrılmaz.



❖ Aşağıdaki cümlelerdeki sıfatları bulunuz. Sıfatı ve sıfatın çeşidini boşluklara yazınız.

Beş bardak su içerim.

Can'a hangi oyuncuğu alalım.

Şu elbiseyi alalım mı?

Cümledeki sıfat: .....

Cümledeki sıfat: .....

Cümledeki sıfat: .....

Sıfat çeşidi: .....

Sıfat çeşidi: .....

Sıfat çeşidi: .....

Dün bazı adamlar geldi.

Yarın eski evde buluşalım.

Üçgen peynir al marketten.

Cümledeki sıfat: .....

Cümledeki sıfat: .....

Cümledeki sıfat: .....




Sıfat çeşidi: .....

Sıfat çeşidi: .....




Sıfat çeşidi: .....

## Kütle ölçüleri çevirmeleri




❖ Kütle ölçüleri arasındaki çevirmeleri yapınız. ( ton, kilogram )

 <p>12 ton = ..... kg 5 ton = ..... kg 21 ton = ..... kg</p>	 <p>4120 kg = ....ton .....kg 1278 kg = ....ton .....kg 3127 kg = ....ton .....kg</p>	 <p>4 ton 110 kg = ..... kg 2 ton 452 kg = ..... kg 1 ton 21 kg = ..... kg</p>
--	--	---




❖ Kütle ölçüleri arasındaki çevirmeleri yapınız. ( kilogram , gram )

 <p>12 kg = ..... g 65 kg = ..... g 36 kg = ..... g</p>	 <p>8500 g = .... kg .....g 4120 g = .... kg .....g 1240 g = .... kg .....g</p>	 <p>6 kg 365 g = ..... g 3 kg 850 g = ..... g 7 kg 780 g = ..... g</p>
---	--	---

❖ Kütle ölçüleri arasındaki çevirmeleri yapınız. ( gram , miligram )

 <p>3 g = ..... mg 75 g = ..... mg 42g = ..... mg</p>	 <p>4120 g = .... g .....mg 4025 g = .... g .....mg 9657 g = .... g .....mg</p>	 <p>2 g 147 mg = .....mg 8 g 420 mg = .....mg 1 g 255 mg = .....mg</p>
---	--	---

❖ Kütle ölçüleri arasındaki çevirmeleri yapınız. ( kilogram , gram , ton , miligram )

 <p>1110 kg = ....ton .....kg 5024 kg = ....ton .....kg 7853 kg = ....ton .....kg</p>	 <p>3320 g = .... kg .....g 2456 g = .... kg .....g 4523 g = .... kg .....g</p>	 <p>2 g 123 mg = .....mg 9 g 578 mg = .....mg 4 g 21 mg = .....mg</p>
---	--	--

## Kütle problemleri

Ömer Bey'in tarlasından 11 ton 655 kg patates çıktı. 345 kg daha patatesi olsaydı her torununa 3'er ton patates verebilecekti. Ömer Bey'in kaç torunu vardır?

Çözüm :


- A)3  
B)4  
C)5  
D)6

Depomda 8 ton 500 kg buğdayım var. Buğdaylarımın yarısını 50 kg'lık çuvalara koyarak satacağım. Bir çuval buğday 9 TL olduğuna göre kaç TL kazanırım?

Çözüm :


- A) 85  
B) 95  
C) 765  
D) 8500

Ali Bey kuyumcudan bilezik aldı. Bileziğin kütlesi 5 g 500 mg geldi. Ali Bey aynı bilezikten 2 tane aldı. Altının bir gramı 532 TL olduğuna göre, kaç TL ödedi?

Çözüm :


- A) 11  
B) 11000  
C) 4852  
D) 5852

Kütlesi 2 kg 260 g gelen karpuzdan 4 tane aldım. Aldığım karpuzların toplam kütlesi kaç gramdır?

Çözüm :


- A)9040  
B)8050  
C)2125  
D)2512

200 TL'ye 5 kg baharat alan aktar, baharatları 100 gramlık poşetlere koyuyor. Her poşeti 6 TL'ye satıyor. Aktar, aldığı baharatı sattığında kaç TL kâr eder?

Çözüm :


- A) 20  
B) 40  
C) 60  
D) 100


39 Kg leblebiyi 5kg'lık 7 poşete koyan Ela, kalan leblebileri de 250 gramlık poşetlere koymak istiyor. Kaç Tane 250 gramlık poşet kullanır?

Çözüm :


- A) 16  
B) 35  
C) 4  
D) 25

## Elektrik devresi kurma

❖ Devre elemanlarının isimlerini yazınız. Soruların doğru cevaplarını boşluklara yazınız.



Devrenin güç kaynağının adı nedir?

Cevap:.....

İletken kablunun görevi nedir?

Cevap:.....

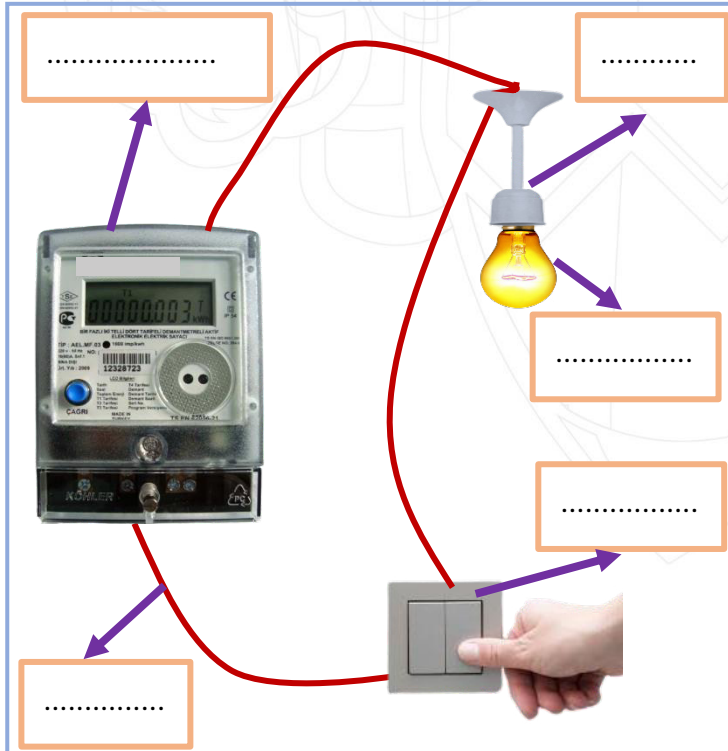
Ampulün yanması için anahtarın pozisyonu ne şekilde olmalıdır?

Cevap:.....

Anahtar açıkken ampul yanar mı?

Cevap:.....

❖ Evdeki devre elemanlarının isimlerini yazınız. Soruların doğru cevaplarını boşluklara yazınız.



Elektrik sayacının görevi nedir?

Cevap:.....

Evdeki devrede neden pil kullanılmaz?

Cevap:.....

Evde hangi tür elektrik kullanırız?

Cevap:.....

Duvardaki elektrik düğmesinin görevi nedir?

Cevap:.....

## Farklı kültürler - Komşu ülkeler - Türk Cumhuriyetleri

❖ Aşağıda verilen soruların doğru cevaplarını boş bırakılan yerlere yazınız.

Batıdaki komşularımızı yazınız.



Ülkemizin topraklarına komşu olan sekiz tane komşu ülke vardır.

Ayrıca bizim gibi Türk olan ülkeler de vardır. Bunlara Türk Cumhuriyetleri denir.

KKTC bayrağı renkleri nelerdir?

İran'ın başkenti neresidir?

En uzun sınırimız hangi komşumuzla?

Türk Cum. lerinden ikisini yazınız.

Azerbaycan'ın başkenti neresidir?

Suriye'nin resmi dili nedir?

Doğudaki komşularımızı yazınız.

Başkenti Atina olan komşumuz?

Kazakistan'ın başkenti neresidir?

❖ Aşağıdaki cümlelerin doğru olanlarının başına "D", yanlış olanlarının başına ise "Y" yazınız.

..... Farklı kültürlere ve geleneklere saygı duymalıyız.

..... İskoçların "kilt" adlı milli giysisinde, erkekler etek giyerler.

..... Geleneksel kıyafetler, ülkelerin kültürlerini yansıtır.

..... Farklı kültürler bizler için zenginliktir.

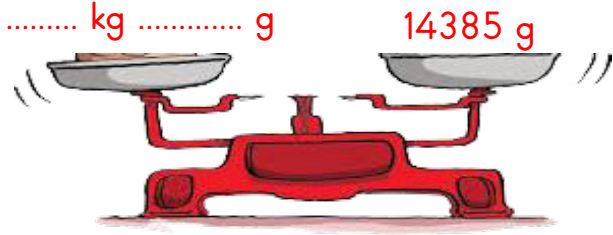
..... Pizza çok sevilen bir Alman milli yemeğidir.

..... Sumo güreşi, İtalyanların dünyaca tanınmış milli sporudur.

..... Kimono Japonların milli giysisidir.

..... Afrikalılar yemek yerken, yemek çubuğu kullanırlar.

## MİNİ TEST



1- Yukarıdaki terazide boş bırakılan yerlere aşağıdakilerden hangisini yazabiliriz?

- A) 1 kg 385 g                      B) 4 kg 85 g  
C) 14 kg 385 g                    D) 14 kg 85 g

2- Bir çiftçi traktörüne 1 ton 600 kg buğday yüklüyor. Buğdayların çeyreğini deposuna indiriyor. Kalan buğdayları 50 kg'lık çuvallara koyuyor. Kaç tane çuval gereklidir?

- A) 23                                  B) 400  
C) 500                                D) 24

I       $4 \text{ g } 25 \text{ mg} = 425 \text{ mg}$

II      $4256 \text{ kg} = 4 \text{ ton } 256 \text{ kg}$

III     $12568 \text{ g} = 12 \text{ kg } 568 \text{ g}$

IV     $56 \text{ g } 45 \text{ mg} = 5645 \text{ mg}$

3- Çevirmelerin hangileri doğrudur?

- A) I - II - III                      B) I - II  
C) I - II - IV                      D) II - III

Mavi göle gidelim yarın. Orada iki masa tutup birleştirelim. Piknik yapalım. Eski elbiselerini giy. Kirlenecek çünkü.

4- Yukarıdaki cümlelerde kaç tane sıfat vardır?

- A) bir                                      B) iki  
C) üç                                      D) dört

5- Aşağıdaki cümlelerin hangisinde işaret sıfatı kullanılmıştır?

- A) Akşam yeni elbiselerini giyip gel.  
B) Sana o çocukla bir daha oynama demedim mi?  
C) Eve gelirken beş yumurta al.  
D) Kiralık evi birkaç kişi sordu

çirkin adam

yuvarlak top

iki ekmek

çizik araba

bazı kediler

sarı limon

6- Yukarıdaki kelime gruplarında kaç tane niteleme sıfatı vardır?

- A) bir                                      B) iki  
C) üç                                      D) dört




- ( ) Evde şehir elektriği kullanırız.  
 ( ) Elektrik devresinde, elektriği devrenin her yerine iletmek kablonun görevidir.  
 ( ) Duy, elektrik devresi elemanıdır.  
 ( ) Evde kullanılan elektrik devresinde enerji kaynağımız pildir.

7- Yukarıdaki tümcelerin doğru olanlarının başına "D" ve yanlış olanlarının başına "Y" yazarak, sonuç aşağıdakilerden hangisi olur?

- A) D - Y - D - Y                      B) D - D - D - Y  
 C) Y - D - Y - D                      D) D - D - D - D

8- Aşağıdaki bilgilerden hangisi doğrudur?

- A) Anahtar açıkken ampul yanar.  
 B) Bir devrede pil olmasa da olur.  
 C) Anahtar kapalıyken ampul yanar.  
 D) Pil yatağı olmazsa devre kurulamaz.



9- Yukarıdakilerin kaç tanesi devre elemanı değildir?

- A) İki                                      B) üç  
 C) dört                                    D) beş

10- Aşağıdakilerden hangisi Güney Kore bayrağıdır?



11- Tulum çalan ve "kilt" adındaki geleneksel kıyafetini giyen bu çocuğun ülkesi aşağıdakilerden hangisidir?

- A) İskoçya                                      B) Mısır  
 C) Brezilya                                    D) Kenya

- I - Farklı kültürlerle saygılı olmalıyız.  
 II- Her ülkenin farklı kıyafeti olabilir.  
 III- Pizza bir Meksika yemeğidir.  
 IV- Ülkelerin yemekleri, kültürlerine göre farklılık gösterebilir.

12- Yukarıdaki cümlelerden hangileri doğrudur?

- A) II - III                                      B) I - II - III  
 C) II - III - IV                              D) I - II - IV