


Ad Soyad:.....  
Sınıfı:.....  
Numarası:.....

1) Bir dolmuşta 33 yolcu vardı. 1.durakta dolmuşta 17 yolcu daha bindi. 2.durakta dolmuştan 22 yolcu indi. Son durumda dolmuşta kaç yolcu kalmıştır?



ÇÖZÜM:

2) Ahmet 21 yaşındadır. Kardeşi Ahmet ten 8 yaş küçüktür. Ahmet ve kardeşinin yaşları toplamı kaçtır?




ÇÖZÜM:

3) 51 sayısından 24 sayısının en yakın onluğa yuvarlanmış halini çıkartıp, bulduğumuz sayıya 1 onluk 8 birlikten oluşan sayıyı eklersek sonuç kaç olur?

ÇÖZÜM:

4) Bir büfede 88 ekmek satılmıştır. Sabah 42, öğlen 38 ekmek satılmıştır. Geriye satılmayan kaç ekmek kalmıştır?



ÇÖZÜM:

5) Nazlı 27, ablası 29 yaşındadır. 5 yıl önce ikisinin yaşları toplamı kaçtır?




ÇÖZÜM:

6) Anneannem 61 yaşındadır. Annem, anneannemden 28 yaş küçüktür. Babam da annemden 4 yaş büyüktür. Yukarıda verilenlere göre babam kaç yaşındadır?



CÖZÜM:

7) Ela'nın 24 tane kırmızı kalemi, 36 tane de kurşun kalemi vardı. Ela kalemelerinin 17 tanesini kaybetti, Ela'nın geriye kaç kalemi kalmıştır?



CÖZÜM:

8) Kamil'in 67₺ parası vardı. Parasının 19₺ si ile kendine bileklik aldı. Daha sonra annesi Kamil'e 25₺ daha para verdi. Son durumda Kamil'in kaç tl parası olmuştur?



CÖZÜM:

9) 2-E sınıfında 19 erkek, 15 kız öğrenci vardır. Sınıftaki öğrencilerin 11 tanesi ödevini yapmamıştır. 2-E sınıfında ödevini yapan öğrencilerin sayısı kaçtır?



CÖZÜM:

10) 3 desteden, 2 düzine fazla tokası olan Ayşe, tokalarının 14 tanesini kaybetti. Ayşe'nin geriye kaç tokası kalmıştır?



CÖZÜM: