

10'un katı olan iki doğal sayının farkı bulunurken birler basamağındaki sıfırlar yokmuş gibi düşünülür. Onlar basamağındaki rakamların farkı bulunur,sonra sayının sağına bir sıfır (0) eklenir.

Aşağıdaki çıkarma işlemlerini zihinden yapınız.

$$\begin{array}{r} 30 \\ - 10 \\ \hline \dots \end{array}$$

$$\begin{array}{r} 40 \\ - 20 \\ \hline \dots \end{array}$$

$$\begin{array}{r} 30 \\ - 20 \\ \hline \dots \end{array}$$

$$\begin{array}{r} 40 \\ - 30 \\ \hline \dots \end{array}$$

$$\begin{array}{r} 30 \\ - 30 \\ \hline \dots \end{array}$$

$$\begin{array}{r} 50 \\ - 10 \\ \hline \dots \end{array}$$

$$\begin{array}{r} 70 \\ - 20 \\ \hline \dots \end{array}$$

$$\begin{array}{r} 60 \\ - 30 \\ \hline \dots \end{array}$$

$$\begin{array}{r} 70 \\ - 30 \\ \hline \dots \end{array}$$

$$\begin{array}{r} 60 \\ - 40 \\ \hline \dots \end{array}$$

$$\begin{array}{r} 70 \\ - 50 \\ \hline \dots \end{array}$$

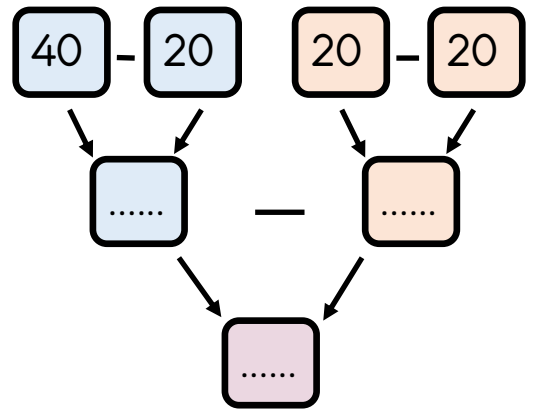
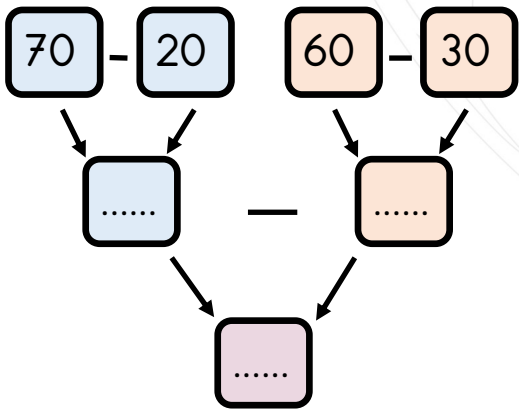
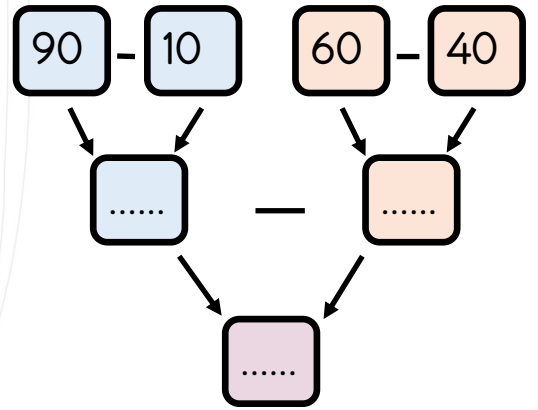
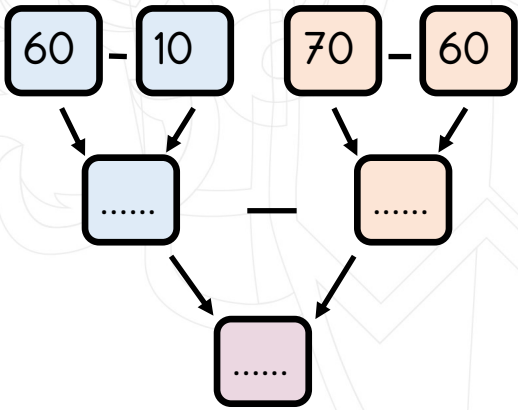
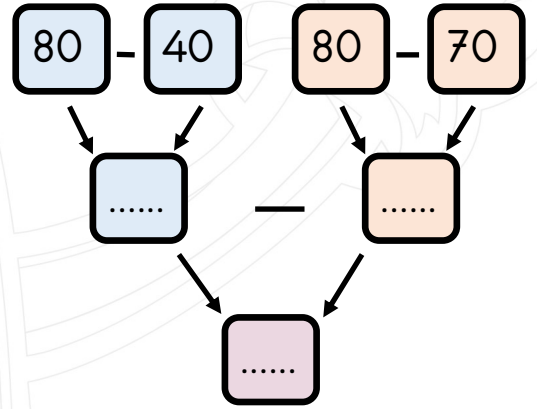
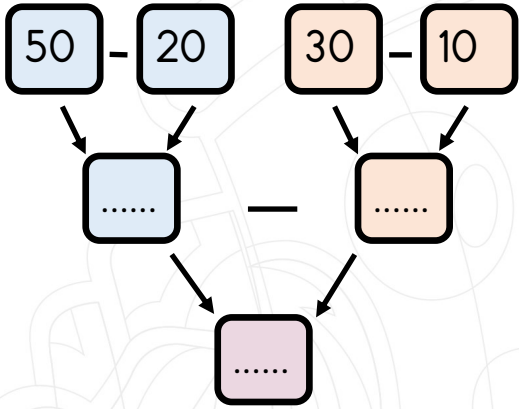
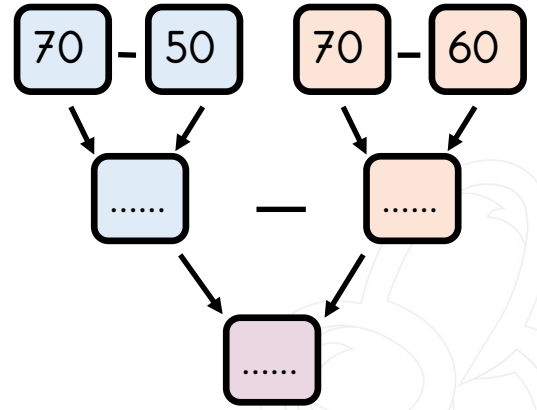
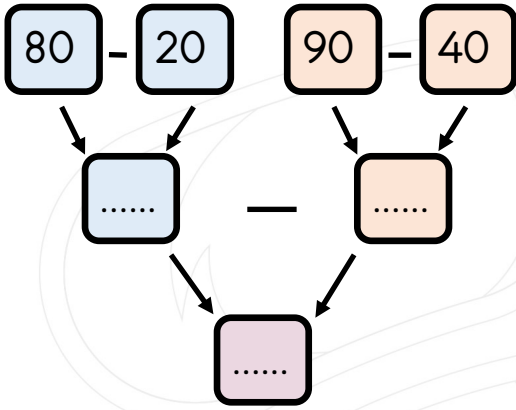
$$\begin{array}{r} 60 \\ - 20 \\ \hline \dots \end{array}$$

$$\begin{array}{r} 50 \\ - 40 \\ \hline \dots \end{array}$$

$$\begin{array}{r} 10 \\ - 10 \\ \hline \dots \end{array}$$

$$\begin{array}{r} 60 \\ - 30 \\ \hline \dots \end{array}$$

Aşağıdaki çıkarma işlemlerini zihinden yapınız.



Aşağıdaki çıkarma işlemlerini zihinden yapınız.

$70-20=$

$40-20=$

$60-10=$

$80-30=$

$90-70=$

$70-70=$

$50-20=$

$40-0=$

$20-10=$

$30-20=$

$40-20=$

$30-10=$

$30-30=$

$90-30=$

$80-40=$

$70-50=$

$50-40=$

$80-50=$

$90-80=$

$50-30=$

$40-10=$

$70-20=$

$90-0=$

$90-40=$

$80-50=$

$60-40=$

Aşağıdaki çıkarma işlemlerini zihinden yapınız.

1) Bir çiftlikteki 60 tane tavuğun 20 tanesi satıldı. Geriye kaç tane tavuk kaldı?

2) Elma ağacımızın üzerinde 50 tane elma vardır. Bunların 20 tanesini toplarsam ağaçta kaç tane elma kalır?

3) Bir otobüste 40 tane yolcu vardır. Bunların 10 tanesi bayan olduğuna göre otobüsteki erkek yolcuların sayısı kaçtır?

4) $80 - 40$ işleminin sonucu kaçtır?

5) Sınıfımızda hikaye ve masal kitaplarından oluşan 80 tane kitap vardır. Bunların 40 tanesi masal kitabı olduğuna göre hikaye kitaplarının sayısı kaçtır?

