

## SEYİT ONBAŞI



Çanakkale Savaşı'nın en yoğun geçtiği günlerdi. Düşman Çanakkale Boğazı'nı sarmış ve gemilerinden mevzilerimize yoğun top atışına başlamıştı. Bu atışlardan biri Seyit'in görevli olduğu toplara isabet etti. İsabet alan topların, mermileri taşıyacak vinçleri paramparça olmuştu. Seyit kendine geldiğinde kendi kullandığı topun vincinin kullanılamaz hale geldiğini gördü. Seyit düşündü ve o tarihe damga vuracak olayın kararını verdi. Topun atış yapabilmesi için yerde duran mermilerin, birkaç basamaktan oluşan merdivenlerden yukarı çıkarılıp namlu haznesine sürülmesi

gerekliyordu. Seyit, bunu başarmaya kararlıydı. Düştüğü yerden bir hışımla kalktı ve yakınındaki Arkadaşına:

-Gel Ali! Yardım et de şu mermiyi sırtıma alayım. Bu bizim vatanımıza borcumuzdur dedi. Arkadaşı şaşkın şaşkın bakarak:

-Bu mermilerin her biri 276 kilo çeker. Kaldıramazsın Seyit! Dedi.

-Bir deneyelim diye cevap verdi Seyit. Ellerini toprağa bulayıp tuttıkları mermiyi Seyit'in sırtına koydular. Hafif sendeledikten sonra topun merdivenlerini teker teker, yavaş yavaş çıktı. Arkadaşının yardımıyla mermiyi topa sürüp ateşledi. Üçüncü mermi düşman gemilerini vurmaya başardı. İsabet alan geminin dümen tertibatı parçalandı. Ve bir süre sonra gemi battı. Bu kahramanlık savaşın seyrini değiştirdi. Seyit Onbaşı bu kahramanlığı ile vatanımızın kurtuluşunda çok önemli bir rol oynamış ve adını Çanakkale kahramanları arasına yazdırmıştır.

❖ *Aşağıdaki soruları metne göre cevaplayalım.*

1. Seyit Onbaşı'nın arkadaşı neden ona şaşkın şaşkın bakmış olabilir?

*Seyit Onbaşı'nın kaldırmak istediği mermilerin ağırlığı 276 kilo olduğun için.*

2. Seyit Onbaşı neden adını Çanakkale kahramanları arasına yazdırmıştır?

*Yaptığı kahramanlık sayesinde vatanımızın kurtulmasına yardım ettiği için.*

3. Seyit Onbaşı'nın aldığı tarihi karar neydi?

*Yerden kalkarak 276 kiloluk mermiyi top arabasına kadar sırtında taşımak.*

❖ *Aşağıdaki boşluklara uygun noktalama işaretleri koyalım.*

➤ Sevdiğim spor dalları hentbol ( . ) futbol ve voleyboldur ( . )

➤ İstanbul ( ' ) a nasıl gideceğiz ( ? )

➤ Av ( . ) Hasan Demir ( ' ) den mi randevu aldınız ( ? )

➤ Türkiye ( ' ) nin başkenti Ankara ( ' ) dir ( . )

➤ Hey ( . ) çabuk buraya gelin ( ! )

➤ Prof ( . ) Dr ( . ) Ahmet Tek ( ' ) e ameliyat oldum ( . )

➤ Ayy ( ! ) Elim çok kanyor ( . )

- ❖ *Aşağıdaki cümleleri soru eki kullanarak soru cümlesi olacak şekilde yazalım.*

Annem bu sabah kahvaltıya börek yapmış.

Annem bu sabah kahvaltıya börek mi yapmış?

Okuldan sonra çocuklar parkta oyun oynadı.

Okuldan sonra çocuklar parkta oyun mu oynadı?

Yaz gelince dedesinin köydeki evine gidecekler.

Yaz gelince dedesinin köydeki evine mi gidecekler?

- ❖ *Aşağıdaki cümlelerdeki olayları oluş sırasına göre numaralandıralım.*

( 5. ) Arabanın lastiğinin patlaması babamın canını çok sıkıyordu.

( 3. ) Biraz gittikten sonra arabadan tıkırtılar gelmeye başladı.

( 2. ) Sabah olunca kahvaltı edip erkenden yola çıktık.

( 1. ) Babam, akşam yemeğinde yarın Ankara'ya babaannelere gideceğimizi söyledi.

( 4. ) Durup baktığımızda arabanın lastiğinin patladığını gördük.

( 4. ) Akşam olunca da dedemlere bayramlaşmaya gittik.

( 2. ) Annem çok güzel bir bayram kahvaltısı hazırlamıştı.

( 1. ) Bayram sabahı büyük bir heyecanla uyanıdım.

( 3. ) Kahvaltıdan sonra arkadaşlarımla beraber şeker toplamak için komşuları dolaştık.

( 5. ) Bir bayram günümde bu şekilde mutlu, mesut geçti.

- ❖ *Aşağıdaki cümlelerdeki sestesh kelimeleri bularak altlarına yazalım.*

➤ Küçük kardeşimin elinde kara lekeler çıkmış.

el - kara

➤ Ocak ayında çok fazla dolu yağacakmış.

ocak - ay - dolu - yağ

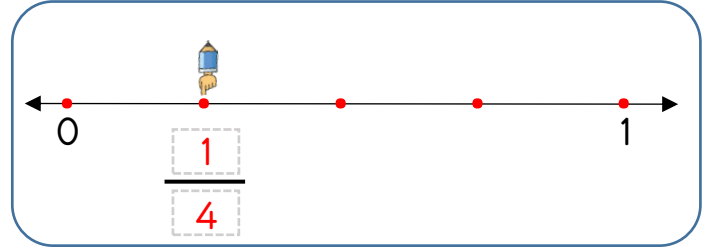
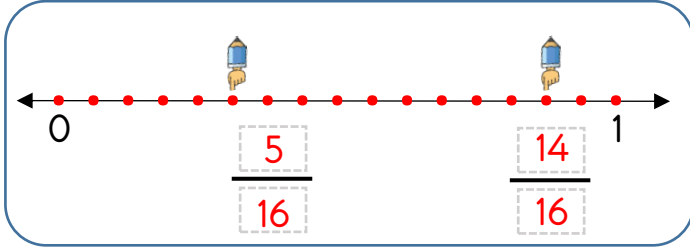
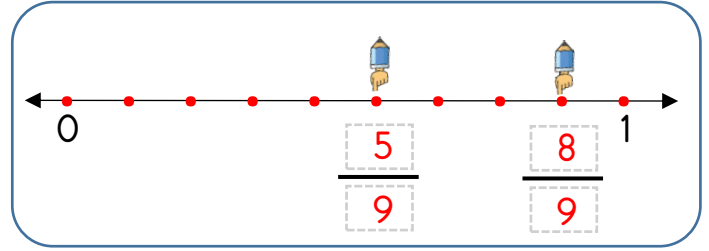
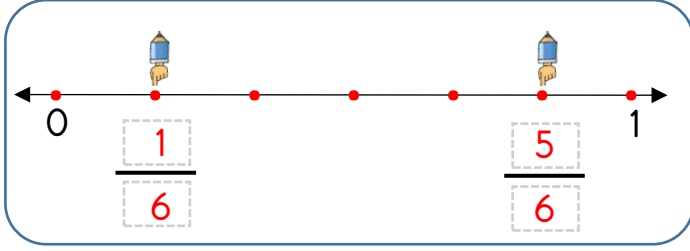
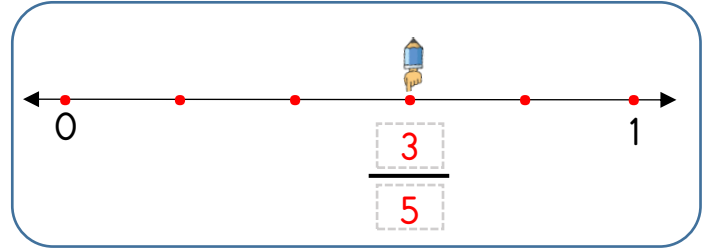
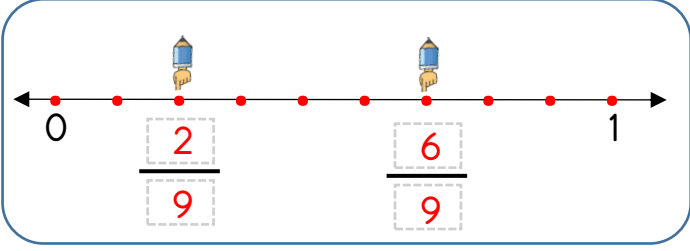
➤ Benim yüz tane ayakkabı bağım vardır.

ben - yüz - bağ

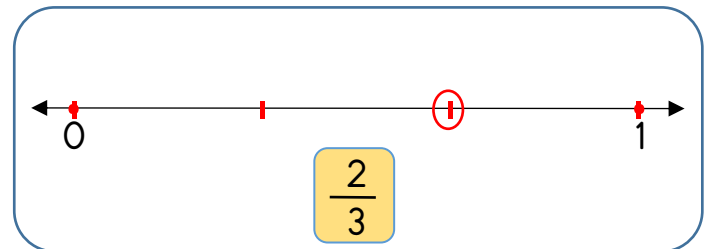
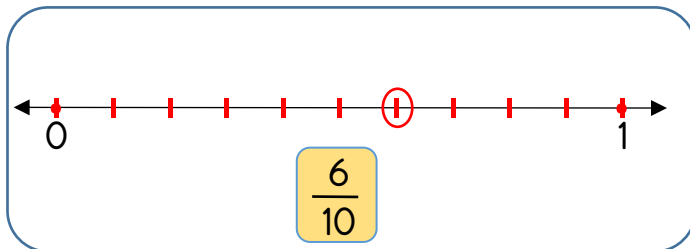
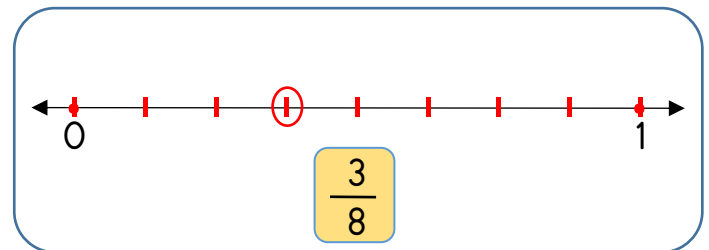
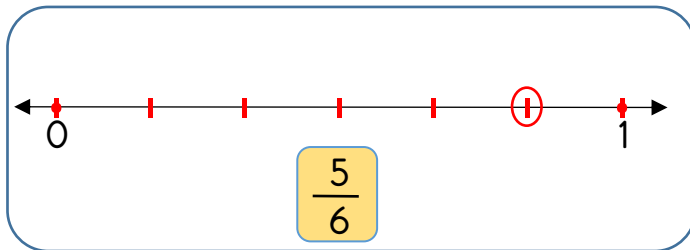
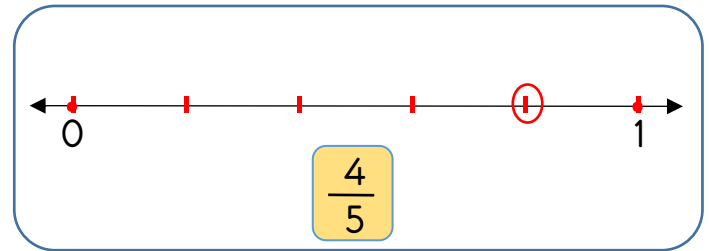
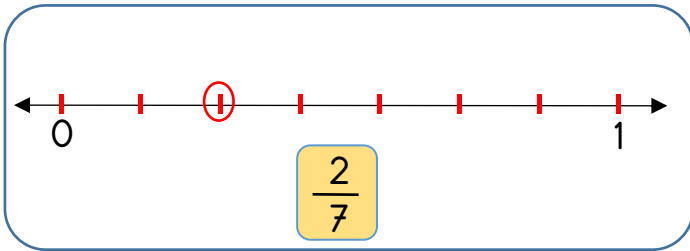
➤ Yaz tatilinde kumları kazmayı çok seviyorum.

yaz - kaz

❖ Aşağıdaki sayı doğrularında işaretlenen noktaları kesir olarak yazalım.



❖ Aşağıda verilen kesirleri sayı doğrusundaki yerini gösterelim.



❖ Aşağıdaki problemleri çözelim.

1. Marketteki 36 tane çikolatanın  $\frac{1}{6}$  'i satıldı. Geriye kaç tane çikolata kaldı?



$$36 \div 6 = 6$$

$$36 - 6 = 30 \text{ tane kalır}$$

2. Ali'nin parası babasının parasının  $\frac{1}{7}$  'i kadardır. Babasının 91 TL si olduğuna göre Ali'nin kaç TL'si vardır?



$$91 \div 7 = 13 \text{ TL}$$

3. Murat 96 sayfalık kitabının  $\frac{1}{8}$  'ini okudu Murat'ın kitabı bitirmesi için kaç sayfa daha kitap okuması gerekir?



$$96 \div 8 = 12$$

$$96 - 12 = 84 \text{ sayfa}$$

4. Bir sepetteki 99 yumurtanın  $\frac{1}{9}$  'i kırılmıştır. Kırılan yumurtaların sayısı kaç tanedir?



$$99 \div 9 = 11$$

5. Bir okuldaki 78 öğrencinin  $\frac{1}{6}$  'i gözlüklü olduğuna göre bu okulda gözlük kullanmayan kaç öğrenci vardır?



$$78 \div 6 = 13$$

$$78 - 13 = 65$$

6. 88 TL parasının  $\frac{1}{8}$  'i ile kitap alan Aslı kalan parasının  $\frac{1}{7}$  'ine de defter aldı. Aslı kitap ve deftere toplam kaç TL ödemiştir?



$$88 \div 8 = 11$$

$$77 \div 7 = 11$$

$$88 - 11 = 77$$

$$11 + 11 = 22 \text{ TL öder.}$$

7. 4 düzine kalemin  $\frac{1}{6}$  'i satılmıştır. Satılan kalemlerin sayısı kaçtır?



$$12 \times 4 = 48$$

$$48 \div 6 = 8 \text{ kalem satılmış}$$

8. Bir yolcu otobüsünde 72 yolcu bulunmaktadır. 1. durakta yolcuların  $\frac{1}{9}$  'i, 2. durakta da kalan yolcuların  $\frac{1}{8}$  'i indiğine göre otobüste kaç yolcu kalmıştır?



$$72 \div 9 = 8$$

$$64 \div 8 = 8$$

$$72 - 8 = 64$$

$$64 - 8 = 56 \text{ yolcu kalır.}$$

❖ Aşağıdaki ses kaynaklarını uygun olan gruba yazalım.



davul



insan



dalga



müzik çalar



kedi

### DOĞAL SES KAYNAĞI

insan

dalga

kedi

kus

### YAPAY SES KAYNAĞI

müzik çalar

zurna

davul

telefon



kuş



zurna

❖ Aşağıdaki bilgilerden doğru olanlara ( D ), yanlış olanlara ( Y ) yazalım.

- ( D ) Duyduğumuz her sesin mutlaka bir kaynağı vardır.
- ( D ) Kulaklarımız sayesinde sesin hangi yönden geldiğini rahatlıkla anlayabiliriz.
- ( Y ) İnsanların düdük çıkardığı ses doğal bir sestir.
- ( D ) Ses kaynağına yakın ya da uzak olma durumuna göre sesin şiddeti değişir.
- ( Y ) Sadece gürültülü ortamlarda sesi net olarak duymamız mümkündür.

❖ Aşağıdaki soruları cevaplandıralım.

1. Aşağıdaki ses kaynaklarından hangisi doğal ses kaynağı değildir?

- A. Şelale sesi
- B. Tren sesi
- C. Arı sesi

2. Aşağıdaki bilgilerden hangisi doğru bir bilgidir?

- A. Çevremizde duyduğumuz ve insanlar tarafından çıkarılan tüm sesler doğal sestir.
- B. Yapay ses kaynakları dışarıdan bir etki olmadan ses çıkaramazlar.
- C. Televizyon kendi başına ses çıkaran doğal ses kaynağıdır.



Ön bahçede oynayan Ece ve kantinde bekleyen Mert çalan ders zilini duyarak sınıfa gitmişlerdir?

3. Bu durum aşağıdakilerden hangisi ile açıklanabilir?

- A. Okulda çalan zilin doğal ses kaynağıdır.
- B. Ses kaynağına yaklaştıkça sesin şiddeti artar.
- C. Bir kaynaktan çıkan ses her yöne yayılır.

❖ Aşağıdaki boşlukları uygun kelimelerle dolduralım.

tanımadığımız

olmadan

kötü

anne ve baba

büyük

- Güvenliğimiz için .....**anne ve baba**.....mızın sözünden hiçbir zaman çıkmamalıyız.
- .....**Kötü**..... niyetli insanlarla kesinlikle arkadaşlık kurmamalıyız.
- Ailemizin bilgisi .....**olmadan**..... arkadaşlarımızla hiçbir yere gitmemeliyiz.
- .....**Tanımadığımız**..... insanların bizimle yakınlık kurmasına müsaade etmemeliyiz.
- Bizden yaş olarak çok .....**büyük**..... kişilerle arkadaşlık kurmamız tehlikeli olabilir.

❖ Aşağıdaki bilgilerden doğru olanlara ( D ), yanlış olanlara ( Y ) yazalım.

- ( **Y** ) Okul çıkışında yanıma yaklaşan biri annemin arkadaşı olduğunu söylerse ona güvenebilirim.
- ( **D** ) Tanımadığım insanların benimle iletişim kurmasına izin vermem.
- ( **Y** ) Çok sevdiğim arkadaşımı kırmamak için bir defalığına tehlikeli bir şey yapabilirim.
- ( **D** ) Okulda ya da okul yolunda yaşadığım rahatsız edici olayları ailemle hemen paylaşırım.
- ( **D** ) Eve giderken yanıma yaklaşan taksinin şoförü seni eve bırakayım derse kabul etmem.
- ( **Y** ) Okulda canımız çok sıkıldığında bazen okuldan kaçmanın kimseye zararı olmaz.

❖ Aşağıdaki soruları cevaplayalım.

1. Okulda yaşayacağımız tehlikeli durumlarda ilk önce kimden yardım istemeliyiz?

- A. Güvenlik görevlisinden
- B. Babamızdan
- C. Öğretmenimizden**

2. Aşağıdaki durumların hangisinde "hayır" diyebilmeliyiz?

- A. Arkadaşlarımız öğretmenler günü hediyesi için para topladığında.
- B. Arkadaşımız üçüncü derse girmeyelim dediğinde.**
- C. Arkadaşımız ders çalışalım dediğinde.

I. Onunla sohbet ederek yürürüm.

II. Bağırarak yardım isterim.

III. Sessizce yürümeye devam ederim.

3. Okula giderken tanımadığınız bir kişi ısrarla sizinle konuşmak istediğinde yukarıdaki yöntemlerden en etkili olacak olanı hangisidir?

A. I

**B. II**

C. III

4. Yabancı birinin size zarar vermesini önlemenin en kolay yolu nedir?

A. Söylediklerini dinleyip kabul etmek.

**B. İsteddiği şeyleri hayır diyerek reddetmek.**

C. Gideceğimiz yere kadar onunla gitmek.