

Adı:.....  
Soyadı:.....  
Sınıfı ve No:.....

### 3.SINIF MATEMATİK ÇEVRE PROBLEMLERİ

PROBLEMLER-1

1. Bir dikdörtgenin uzun kenarı 16 metredir. Kısa kenarı ise uzun kenarının yarısı kadardır. Bu dikdörtgenin çevresi kaç metre olur?

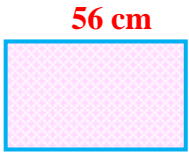
**Çözüm:**

3. Bir kenar uzunluğu 74 metre olan kare şeklindeki bir tarlanın kenarına 2 sıra tel çekilecektir. Kaç metre tele ihtiyaç vardır?



**Çözüm:**

5. Aşağıdaki dikdörtgenin çevresi kaç cm'dir?



**Çözüm:**

7. Bir kenar uzunluğu 24 metre olan bir kare şeklindeki salonun çevresi kaç metre olur?

**Çözüm:**

9. Bir kenar uzunluğu 42 m olan kare şeklindeki tarlanın çevresine 3 sıra tel örgü çekilecektir. Bunun için kaç m tel gerekir?



**Çözüm:**  
42 m

2. Dikdörtgen şeklindeki bir bahçenin uzun kenarı 40 metredir. Kısa kenarı ise uzun kenarının yarısı kadardır. Bu dikdörtgenin çevresi kaç metre olur?

**Çözüm:**

4. Uzun kenarı 35 m, kısa kenarı 20 m, olan dikdörtgen şeklinde yürüyüş parkı vardır. Bu parkın çevresinde 6 tur koşan bir sporcu, kaç metre koşmuş olur?

**Çözüm:**

6. Çevresi 5 metre olan masa örtüsünün uzun kenarının ölçüsü 150 cm ise kısa kenarı kaç cm'dir?

**Çözüm:**

8. Çevresi 360 metre olan kare şeklindeki bir bahçenin bir kenar uzunluğu kaç metredir?

**Çözüm:**

10. Kısa kenarı 67 cm, uzun kenarı kısa kenarının 3 katı olan dikdörtgenin çevresi kaç cm'dir?

**Çözüm:**

www.leventyagmuroglu.com

www.leventyagmuroglu.com

www.leventyagmuroglu.com

Adı:.....

Soyadı:.....

Sınıfı ve No:.....

### 3.SINIF MATEMATİK ÇEVRE PROBLEMLERİ

PROBLEMLER-1

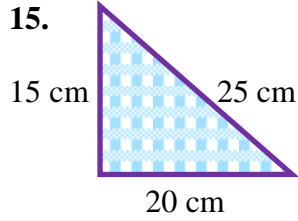
11. Hakan çevresi 320 metre olan sahanın çevresini 4 kez koştu. Hakan kaç m koşmuştur?

**Çözüm:**

13. Çevresi 270 cm olan eşkenar üçgenin bir kenar uzunluğu kaç santimetredir?



**Çözüm:**



**Çözüm:**

Yukarıdaki üçgenin çevresi kaç cm'dir?

17. Bütün kenar uzunlukları birbirine eşit olan bir üçgenin çevre uzunluğu 81 cm ise bir kenarı kaç cm olur?

**Çözüm:**

19. Kenar uzunlukları 18, 24 ve 30 cm olan bir üçgenin çevresi bir karenin çevresine eşittir. Buna göre karenin bir kenarının uzunluğu kaç cm'dir?

**Çözüm:**

12. Bir kenar uzunluğu 48 m olan eşkenar üçgen şeklindeki bir bahçenin çevresi kaç metredir?

**Çözüm:**

14. Yiğit bir kenar uzunluğu 27 m olan kare şeklindeki bir bahçenin çevresinde 9 defa koştu. Yiğit kaç metre koşmuştur?

**Çözüm:**




16. Aşağıdaki kare şeklindeki teli bozarak bütün kenarları eşit olan bir üçgen yapmak istiyoruz. Üçgenimizin bir kenarı kaç cm olur?

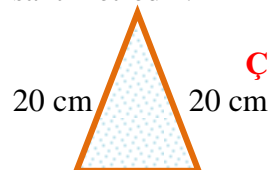
Çevre=  
36 cm

**Çözüm:**

18. Aşağıdaki bütün kenar uzunlukları eşit olan üçgen ile karenin çevresinin uzunluğu eşittir. Verilen bilgilere göre eşkenar üçgenin bir kenar uzunluğu kaç cm'dir? **Çözüm:**



20. Aşağıdaki üçgenin çevresi 56 cm olduğuna göre bilinmeyen kenar kaç santimetredir?



**Çözüm:**