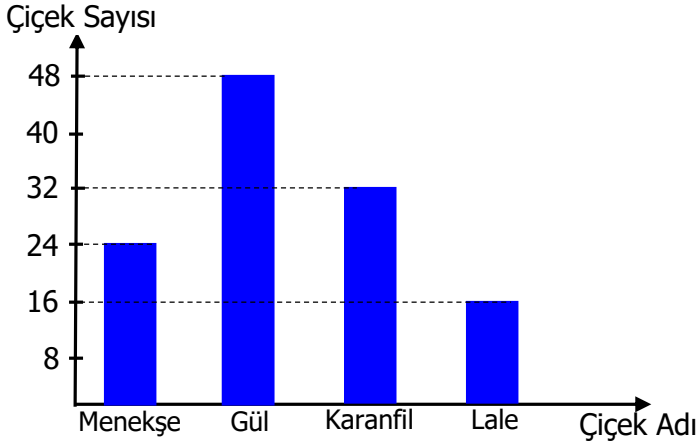


Sütun Grafiğini İnceleme

Grafik : Satılan Çiçekler



1,2,3 ve 4. soruları yukarıdaki grafiğe göre cevaplayalım.

1) En az ve en çok satılan çiçekler hangileridir?

- A) Menekşe-Gül B) Lale-Karanfil
C) Menekşe-Karanfil D) Lale-Gül

2) Toplam kaç tane çiçek satılmıştır ?

- A) 118 B) 120 C) 122 D) 116


3) Karanfil kaç tane daha satılsaydı en çok satılan çiçek olurdu ?

- A) 14 B)16 C) 17 D) 15

4) Karanfil ve lalenin tanesi 7 liradır. Buna göre karanfil laleden kaç lira fazla kazandırmıştır?

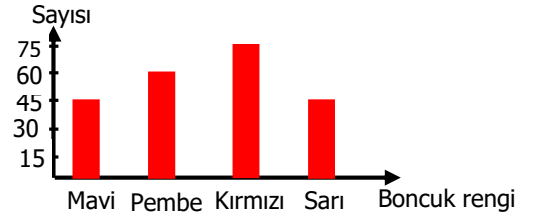
- A) 112 B) 102 C) 122 D) 110

Grafik : Kutudaki Boncuklar

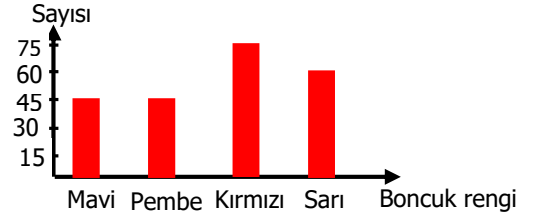


5) Yukarıdaki şekil grafiğinin sütun grafiği aşağıdakilerden hangisidir?

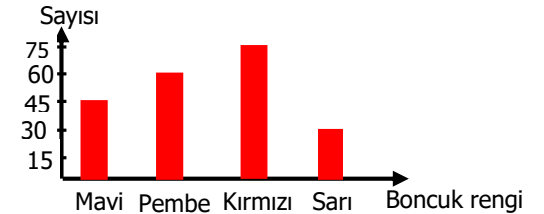
A) Grafik : Kutudaki Boncuklar



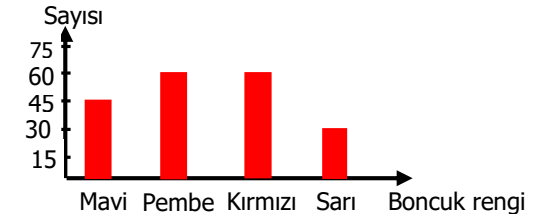
B) Grafik : Kutudaki Boncuklar



C) Grafik : Kutudaki Boncuklar

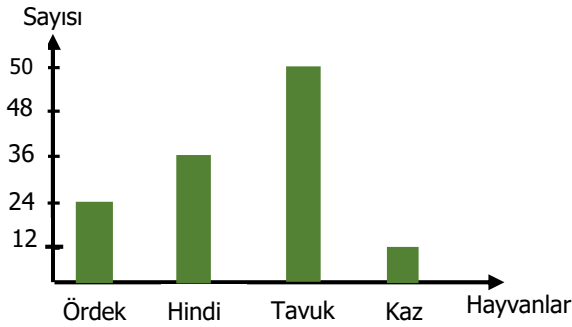


D) Grafik : Kutudaki Boncuklar



Sütun Grafiğini İnceleme

Grafik : Çiftlikteki Kümes Hayvanları



6,7,8 ve 9. soruları yukarıdaki grafiğe göre cevaplayalım.

6) En az olan hayvanla en çok olan hayvan arasında kaç fark vardır ?

- A) 38 B) 48 C) 36 D) 26

7) Her gün tavukların yarısı kadar yumurta toplanıyor. Bir hafta sonunda toplanan yumurtanın 127 tanesi satılmış. Geriye kaç tane yumurta kalmıştır ?

- A) 50 B) 175 C) 46 D) 48

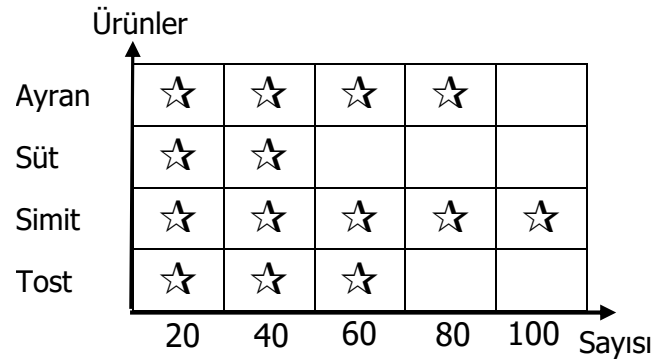
8) Tavuklardan 17 , hindilerden 9 tane satılırsa kaç tane hayvan kalır?

- A) 106 B) 96 C) 97 D) 26

9) Tavukların sayısı ördek ve kazların toplam sayısından ne kadar fazladır ?

- A) 14 B) 15 C) 13 D) 36

Grafik : Kantinde Satılan Ürünler



Her şekil 20 tane ürünü göstermektedir.

10,11, ve 12. soruları yukarıdaki grafiğe göre cevaplayalım.

10)Tost alanların hepsi ayran aldığına göre ayran alanların kaç tanesi tost almamıştır ?

- A) 10 B) 30 C) 20 D) 40

11)Süt ve ayranın tanesi 2 lira olduğuna göre içeceklerin satışından kaç lira elde edilmiştir?

- A) 160 B) 240 C) 230 D) 250

12)Tostun tanesi 7 lira olduğuna göre tost satışından kaç lira elde edilmiştir ?

- A) 400 B) 430 C) 410 D) 420