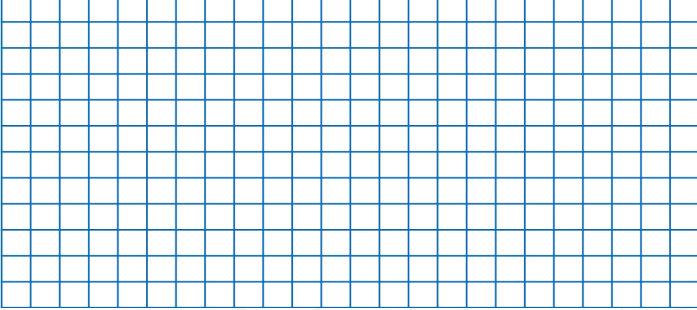





7) Bir bölme işleminde bölünen 18 bölüm 3 ise bölen sayı kaçtır?

- A) 4                      B) 5                      C) 6




10)  $40 \div 4$  yanda verilen bölme işleminde bölüm ile bölünen toplamı kaçtır?

- A) 10                      B) 50                      C) 14



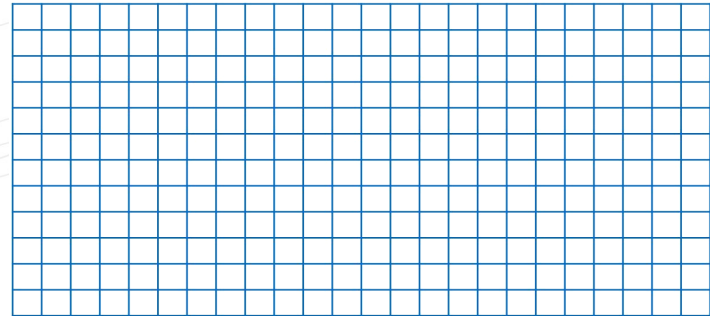
8) Bir bölme işleminde bölünen 24 , bölen 3 ise bölüm ile kalanın toplamı kaçtır?

- A) 6                      B) 7                      C) 8




11) Bir bölme işleminde bölünen 20 bölen 4 ise bölüm ile bölünenin toplamının basamak değerleri farkı kaçtır?

- A) 15                      B) 25                      C) 16



9) Bir bölme işleminde bölünen 36, bölen 4 ise bölüm ile bölünenin toplamının rakamları farkı kaçtır?

- A) 45                      B) 1                      C) 5



12)

$$\begin{array}{r} 27 \quad 3 \\ \hline \end{array}$$

Yukarıda verilen bölme işlemine göre bölünen ile bölümün farkının en yakın olduğu onluk kaçtır?

- A) 20                      B) 21                      C) 30

